

ESCOLA: _____

ALUNO: _____

DATA: _____

MATEMÁTICA (Atividades)




1) Agora é sua vez.

Num estacionamento há 3 150 automóveis e 632 motocicletas. Quantos veículos há ao todo nesse estacionamento?



Se do total de veículos que estão no estacionamento saírem 632 automóveis, quantos veículos sobrarão?

2) Escreva as sentenças matemáticas para achar os dados que faltam na tabela.

Nome da pessoa	Quantia que possuía	Quanto gastou	Quanto sobrou
 Carlos	654 reais	450 reais
 Márcia	564 reais	464 reais
 Leda	500 reais	46 reais

3) Encontre os termos escondidos pelos cartões e indique os cálculos que você fez para achá-los.

a) $7\ 000 + 400 =$

b) + 1 = 720

c) $1\ 700 +$ = 1 741

4) Agora faça o mesmo para a subtração:

a) $624 - 24 =$

b) - 999 = 4 000

c) $2\ 032 -$ = 32

5) Fazendo descobertas:

a) Resolva a adição: $1\ 964 + 4\ 015 =$
.....

b) Troque a ordem das parcelas acima e resolva a nova adição.
.....

c) O que você concluiu?
.....
.....

* Os cálculos podem ser resolvidos à parte.