








Práctica de Matemática



ESCRIBIMOS DE NUMERAL A LITERAL.

9	
12	
5	
15	
20	

23	
31	
40	
30	
39	

LLEVAMOS AL CUADRO EL MAYOR Y MENOR QUE.



IDENTIFICAMOS NÚMEROS PARES E IMPARES.



PAR

IMPAR

PAR

IMPAR

LLEVAR A LA RECTA NUMÉRICA LOS SALTITOS DE LOS CONEJITOS:

UN CONEJITO BLANCO SALTA 3 HACIA ADELANTE PARA ALCANZAR SU ZANAHORIA.

OTRO CONEJITO NEGRO SALTA 5 HACIA ATRÁS PARA COMER SU LECHUGUITA

