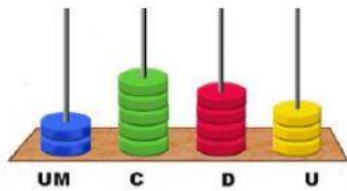


Gimnasio Rincón de los Ángeles  
Matemáticas

1. escribe el número que está en el ábaco



2. Realiza las operaciones

	3	8	9
+	5	3	4

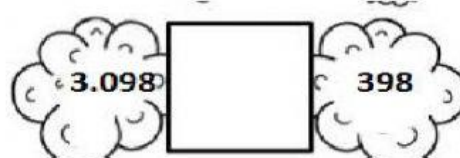
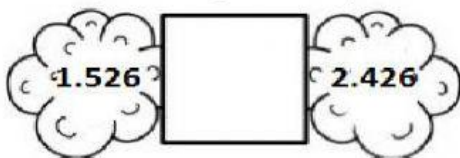
	6	4	8
-	3	3	9

3. Ubica los siguientes números en las casillas de unidades, decenas y centenas

4.125

U.M	C	D	U

4. Escribe >, < o = según corresponda.



5. Descomponer los siguientes números

2.094: \_\_\_\_\_ + \_\_\_\_\_ + \_\_\_\_\_ + \_\_\_\_\_  
 \_\_\_\_\_ UM + \_\_\_\_\_ C + \_\_\_\_\_ D + \_\_\_\_\_ U