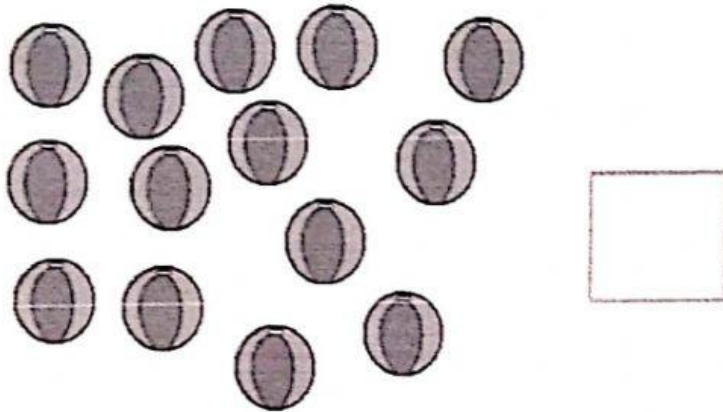




NOME: _____

DATA: _____

CONTE AS BOLAS QUE VINÍCIUS TEM PARA DISTRIBUIR
IGUALMENTE ENTRE DUAS FOCAS.



DESENHE QUANTAS BOLAS FICARÃO COM CADA FOCA.

DESENHE NO SEU CADERNO:





NOME: _____

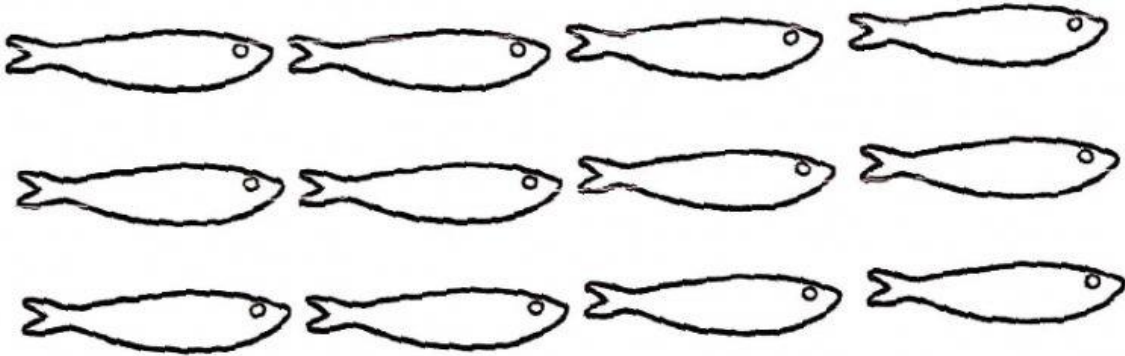
DATA: _____

LEIA AS LETRAS DA PALAVRA E
MARQUE TODAS, ASSIM QUE FOR
LENDO:




SARDINHA

MARQUE UMA SARDINHA PARA CADA LETRA QUE CONTÉM ESSA
PALAVRA:



QUANTAS SARDINHAS VOCÊ MARCOU?



DESENHE A QUANTIDADE DE SARDINHAS PEDIDA
ABAIXO, NO SEU CADERNO:

8

10

12