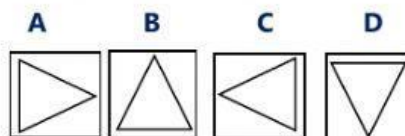
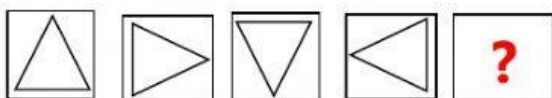


## RAZONAMIENTO ABSTRACTO

Lea las instrucciones, analice e identifique la secuencia: Guíese con el ejemplo

EJEMPLO: Identifica, ¿qué figura sigue?

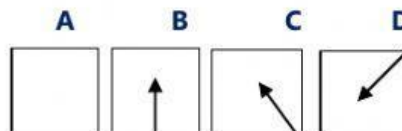
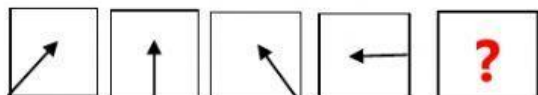
Selecciona la respuesta



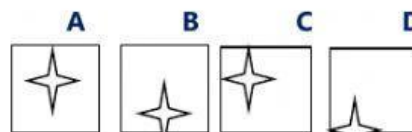
La respuesta correcta es la opción "B" porque el triángulo va girando en el sentido de las agujas del reloj, en consecuencia, corresponde la opción "B"

1. Identifique la figura que sigue:

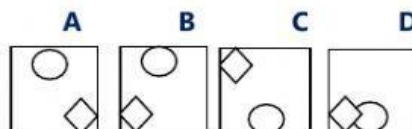
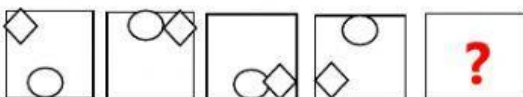
Seleccione con un "clic" la respuesta



2. ¿Qué figura falta?



3. Identifique la figura que sigue



4. ¿Qué figura le sigue?

