

## Tablas y gráficos

Observemos la información de la tabla y respondamos.

Días de lluvia por mes

	Lluvia Antofagasta	Lluvia Santiago	Lluvia Valdivia	Lluvia Punta Arenas
<b>Marzo</b>	0	0	6	7
<b>Abril</b>	0	2	8	6
<b>Mayo</b>	0	4	10	20
<b>Junio</b>	0	8	25	18
<b>Julio</b>	0	5	27	13

Total días de lluvia al mes

Marzo	
Abril	
Mayo	
Junio	
Julio	

Total días de lluvia en la ciudad

Antofagasta	
Santiago	
Valdivia	
Pta. Arenas	

Respondamos las preguntas:

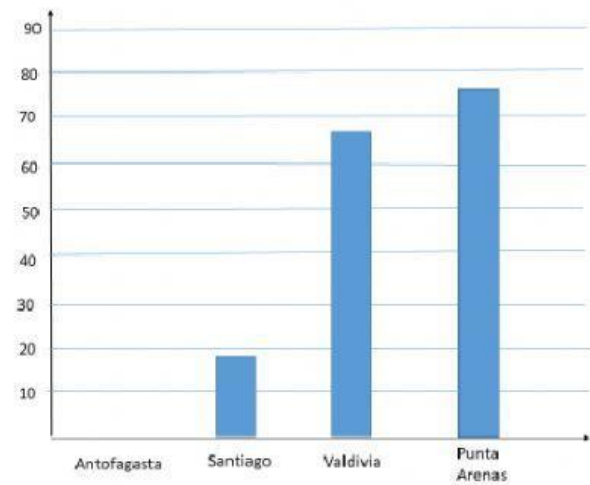
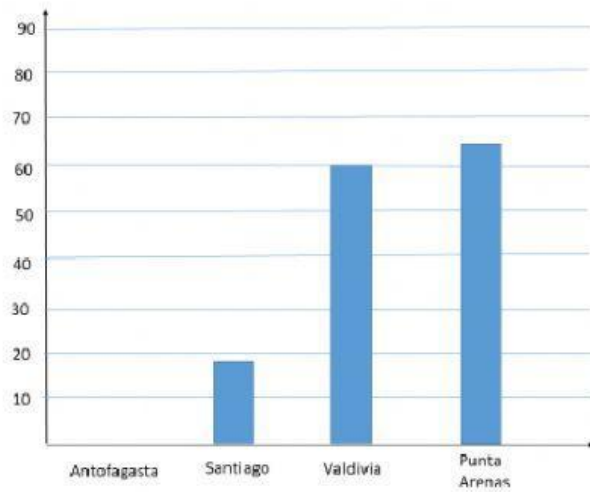
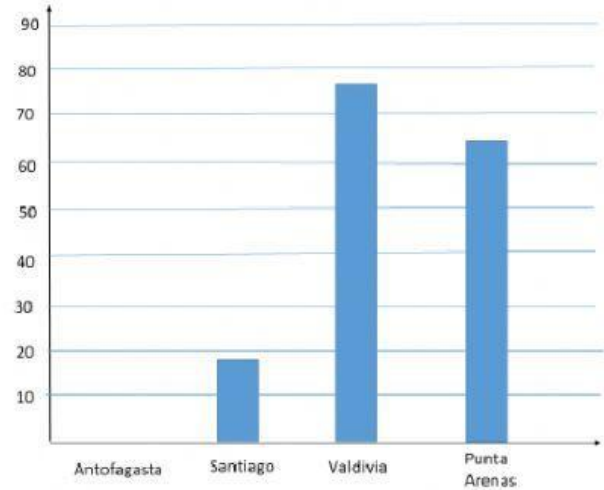
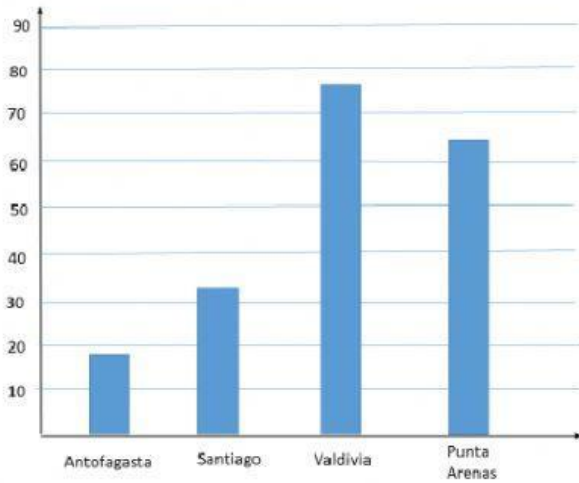
¿En qué mes llovió más días?

¿En qué ciudad llovió más días?

¿En qué mes llovió menos días?

¿En qué ciudad llovió menos días?

Marca el gráfico correcto a los días de lluvia por ciudad



Según el gráfico marcado responde  
¿En qué zona de Chile llueve menos?

¿En qué época del año (otoño- invierno) llueve más?