

Práctica de monedas

Segundo Grado

Observe la siguiente imagen. Uno con líneas el objeto con la moneda que corresponde.



15
colones



10
colones



50
colones




30
colones











25
colones





Marque las monedas que necesita para poder comprar cada artículo.






































Use la menor cantidad de monedas posibles y escriba cuantas monedas necesita para tener la cantidad indicada. Use las de más valor.

Precio	₡ 5	₡ 10	₡ 100
₡ 315			
₡ 285			
₡ 195			
₡ 485			
₡ 340			
₡ 500			

Ejercicios

Marque las monedas que necesita para obtener la cantidad que se le indica.

¢75



¢100



¢95



¢45



¢55

