







DECENA DE MILLAR

1 Se recibieron diversas donaciones y se obtuvieron los siguientes resultados. Completa los datos en la tabla.

Donaciones	Dm	Um	C	D	U	En cifras	Notación desarrollada	En palabras
a. 	1	5	4	7	0			
b. 						13 317		
c. 							30 000 + 6000 + 700	Treinta y seis mil setecientos
d. 						40 372		
e. 	3	1	8	9	4			

Completa según sea el caso.

2

				
Dm	Um	C	D	U

..... + + + + =

Se lee:

3 La directora de un albergue ha recibido las siguientes donaciones de juguetes. Une cada caja con su expresión correspondiente.



1Dm 2Um 6C 5D

5Dm 6Um 9C

8Dm 9Um 2C

7Dm 8Um 5D

2Dm 6Um 3C 1D

4 Compara los números y arrastra el símbolo correcto > o <.

a) 34 567 _____ 34 767

b) 70 385 _____ 70 426

c) 64 621 _____ 64 261

d) 48 462 _____ 48 547

5 Observa los signos y ordena los números que se encuentra en cada saco.

a)



> > > >

b)



< < < <