

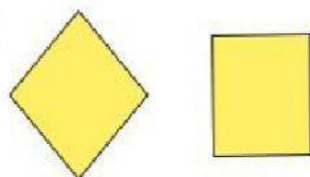
## Figuras congruentes

Elige la figura que es congruente al modelo de la izquierda


b	p	d	b	a

2. En cuál de los siguientes ejemplos no existe congruencia

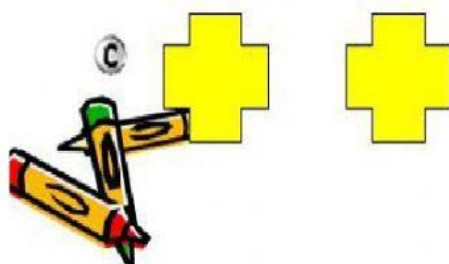
A



B



C



D

