

CAPACIDAD Y MASA

1. Observa

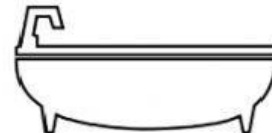
En una llave o en una tabla no podemos meter nada.



Se dice que la llave y la tabla no tienen capacidad.

Escribe tú 4 cosas que no tengan capacidad:

En un vaso o en una bañera podemos meter agua u otras cosas.....

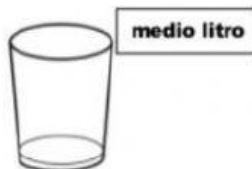
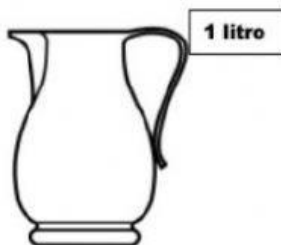


Decimos que el vaso y la bañera tienen capacidad.

Escribe tú 4 cosas que sí tengan capacidad:

2. Fíjate en los recipientes y completa.

2- Fíjate en los recipientes y completa.



- Con **una jarra** puedo llenar **vasos**.
- Con **un vaso** puedo llenar **tazas**.
- Con **2 vasos** puedo llenar **jarras**.
- Con **4 tazas** puedo llenar **jarras**.
- Con **un vaso y 2 tazas** puedo llenar **jarras**.

3. Convierte las siguientes medidas de masa.



1 libra tiene _____ onzas

1 kilogramo tiene _____ gramos

1 quintal tiene _____ libras

4. Selecciona el recipiente correcto.

¿En qué recipiente cabe más de un litro?

☐ ☐ ☐ ☐

¿En qué recipiente cabe menos de un litro?

☐ ☐ ☐ ☐


¿En qué recipiente cabe menos de un litro?

☐ ☐ ☐ ☐

¿En qué recipiente cabe mas de un litro?

☐ ☐ ☐ ☐

5. Ordena de menor a mayor según su peso. Del 1 al 5.



6. Ordena de menor a mayor según capacidad. Del 1 al 5.

