

ACTIVIDAD DE REFORZAMIENTO


3RO DE SECUNDARIA

1. ¿Elige entre los siguientes gráficos a qué tipo de galaxia es la VÍA LACTEA?




2. CLASIFICA A LOS PLANETAS de acuerdo a su composición arrastrando las imágenes a los recuadros, recuerda respetar el orden de los mismos.

PLANETAS INTERIORES




PLANETAS EXTERIORES



3. Relaciona las imágenes con el nombre al que corresponde cada fenómeno

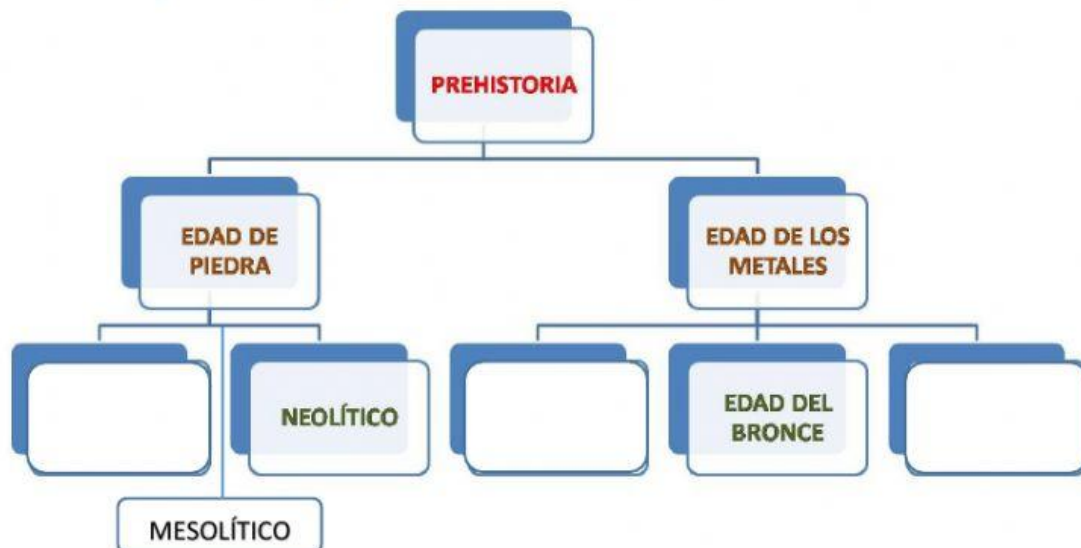


ECLIPSE LUNAR



ECLIPSE SOLAR

4. Completa el esquema de la PREHISTORIA



5. Charles Darwin plantea el principio de supervivencia, es decir que hay una ley natural del más fuerte y el que mejor se adapte sobrevive. Esta afirmación es FALSA O VERDADERA (Elige)

F

V