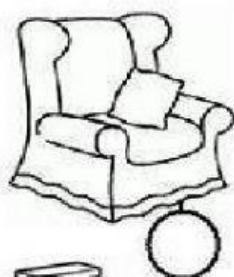


ESCOLA: \_\_\_\_\_

ALUNO: \_\_\_\_\_

Você já parou pra pensar que a casa é formada por cômodos. E cada cômodo tem um tipo diferente de móvel? Então, agora, observe o exercício abaixo e escreva o número do lugar onde cada um desses móveis deve aparecer em uma casa:


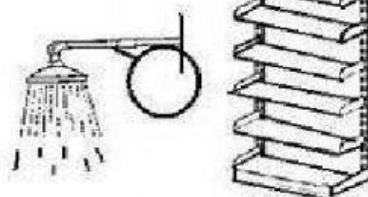
### NUMERANDO OBJETOS




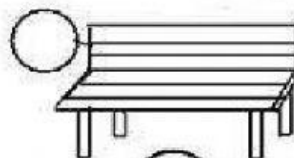
1-QUARTO




2-SALA



3-COZINHA



4-BANHEIRO



5-VARANDA




ESCREVA OS NOMES DOS CÔMODOS. ARRASTE E COLE:

BANHEIRO

SALA

COZINHA

QUARTO



**Alfakids.org**

Educação Infantil e Ensino Fundamental I - Todos os direitos reservados©

Assita agora a esse pequeno vídeo que fala sobre os cômodos e os móveis de cada um deles: