


Idade Contemporânea

Abaixo há bandeiras dos principais países participantes da Primeira Guerra Mundial. Escreva o nome do país a que pertence cada bandeira e ligue as bandeiras às respectivas alianças formadas durante a guerra.




**Tríplice
Entente**




**Tríplice
Aliança**



Selecione o objeto que não representa avanço tecnocientífico da "Belle Époque".



Assinale a condição que, segundo o vídeo, não foi imposta à Alemanha no Tratado de Versalhes



Proibição de manter exército.

Perda de colônias.

Pagamento de indenização.

Perda de território.

Proibição de uso de armas nucleares.

Segundo o vídeo, que tipo de direito foi proclamado com o surgimento do Estado de Bem-Estar Social ("Welfare State")?

a) direitos civis

d) direitos políticos

b) direitos sociais

e) direitos capitalistas

c) direitos ambientais

Abaixo há bandeiras dos principais países participantes da Segunda Guerra Mundial. Escreva o nome do país a que pertence cada bandeira e ligue as bandeiras às respectivas alianças formadas durante a guerra.



Eixo



Aliados



Assinale os fatos relacionados à Segunda Guerra Mundial, conforme o vídeo.



Eleição do tribuno da plebe



Tribunal de Nuremberg



Dia "D"



Batalha de Stalingrado



Expansão do Império Romano



Peste negra



Queda da Bastilha



Perseguição aos cristãos



Ataque a Pearl Harbor



Grande Marcha sobre Versalhes



Inquisição



Criação da ONU



Crucificação de Jesus



Ascensão do Nazismo



Reuniões na Ágora



Bombas atômicas



Declaração dos Direitos do Homem e do Cidadão



Expansão do Império islâmico



Guerra relâmpago



Divisão da Alemanha



Campos de concentração



Feudalização