



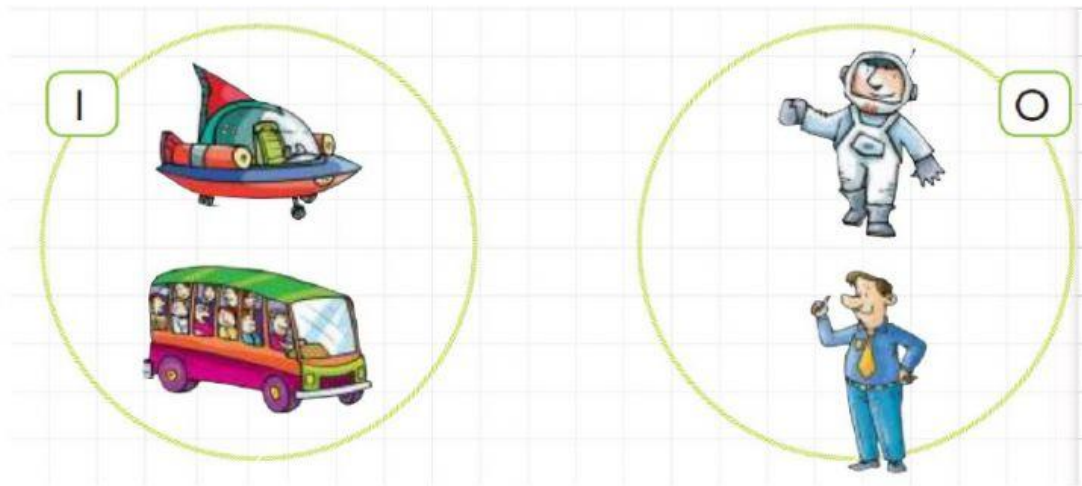
UNIDAD EDUCATIVA PARTICULAR "IRENA SENDLER"

Área: Matemática
Curso: Segundo Básica

LECCIÓN UNIDAD 2

NOMBRE ESTUDIANTE: _____

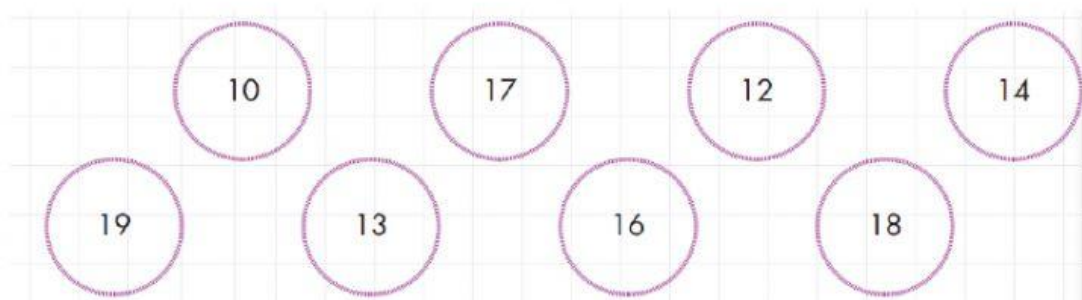
1) Relaciono los elementos del conjunto I con los del conjunto O según corresponda.



2) Seleccione los números 13 y 19 en la recta numérica.



3) Marco los números mayores que 15

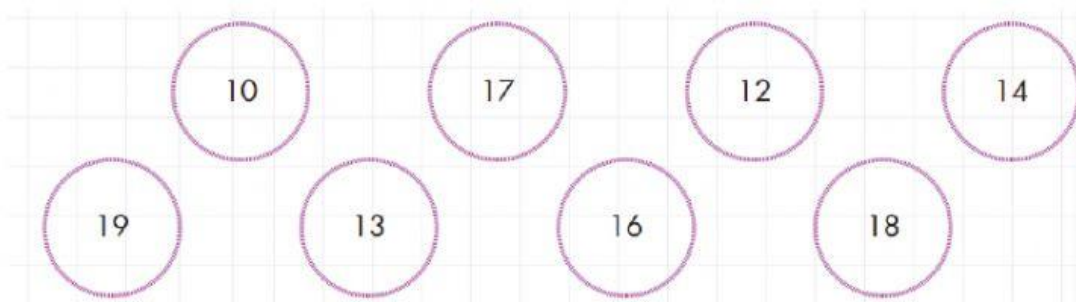




UNIDAD EDUCATIVA PARTICULAR "IRENA SENDLER"

Área: Matemática
Curso: Segundo Básica

4) Marco los números menores que 15.



5) Escribo el número mayor, anterior y el que está entre.

Anterior	Entre	Posterior							
<table><tr><td></td><td>16</td></tr></table>		16	<table><tr><td>12</td><td></td><td>14</td></tr></table>	12		14	<table><tr><td>11</td><td></td></tr></table>	11	
	16								
12		14							
11									
<table><tr><td></td><td>13</td></tr></table>		13	<table><tr><td>17</td><td></td><td>19</td></tr></table>	17		19	<table><tr><td>18</td><td></td></tr></table>	18	
	13								
17		19							
18									


6) Resuelvo las siguientes adiciones.

D	U
1	5
+	4
<hr/>	

D	U
1	2
+	6
<hr/>	

7) Ana Paula le gusta mucho su marco y desea colocar:

1. - Corazones en la frontera del marco.
2. - La foto de su abuelita en el interior del marco.
3. - Su pastel favorito en el exterior del marco.



8) Ordena de mayor a menor la capacidad de estos recipientes. Donde 1 es mayor y el 4 el menor.

