



República de Honduras
Secretaría de Educación

Pruebas Formativas Trimestrales

Educación Prebásica

Educación Prebásica

Primera Prueba

Febrero, marzo y abril

Año 2014

Nombre del alumno/a: _____

Nombre del maestro/a: _____

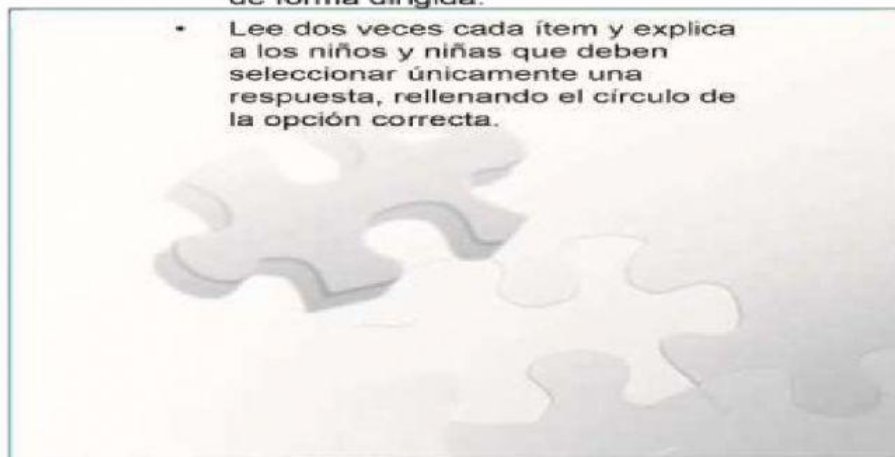
Departamento: _____ Municipio: _____

Centro educativo: _____ Comunidad: _____

Prebásica

Instrucciones para el/la docente:

- El o la docente aplica esta prueba de forma dirigida.
- Lee dos veces cada ítem y explica a los niños y niñas que deben seleccionar únicamente una respuesta, rellenando el círculo de la opción correcta.



PRESENTACIÓN

Estimado alumno y alumna de Prebásica:

En el presente año tendrá en sus manos el cuadernillo que contiene las Pruebas Formativas Trimestrales para que las desarrolles siguiendo las indicaciones que te dará tu maestra(o).

Al finalizar cada trimestre, procure resolver en forma individual las pruebas correspondientes a su nivel educativo. Encontrará una serie de ítems de selección múltiple, es decir un enunciado o pregunta y luego cuatro opciones. Usted debe seleccionar una sola respuesta de manera que su profesor o profesora le explique. Escuche atentamente las instrucciones.

Cada prueba está constituida por una serie de ítems (preguntas) de selección múltiple, deberá seleccionar una respuesta, la que tu consideres correcta.

Las pruebas son indicadores que nos permitirán conocer los avances y los reforzamientos oportunos, que se constituirán en aportes fundamentales para el logro de tus metas en el camino de la educación y la vida.

“El futuro de los niños es siempre hoy. Mañana será tarde”. Gabriela Mistral


1. ¿Qué parte del cuerpo usamos para caminar?

A
☐

B
☐

C
☐

D
☐



2. ¿Qué figura representa una parte del cuerpo humano?



3. ¿Qué sentido sirve para respirar?



4. ¿En cuál de estos dibujos utilizamos el sentido del gusto?



5. ¿Qué órgano pertenece al sentido de la vista?



6. Dibujo que representa donde hay agua?



7. ¿Qué dibujo demuestra higiene personal?




8. Dibujo que representa la estación del verano.



9. ¿Qué alimento es de origen vegetal?



10. ¿Qué alimentos nos da la gallina?



11. ¿Qué persona apaga los incendios?



12. ¿Qué persona atiende a un enfermo?



13. ¿Qué dibujo tiene forma circular?



14. ¿Qué dibujo tiene forma rectangular?



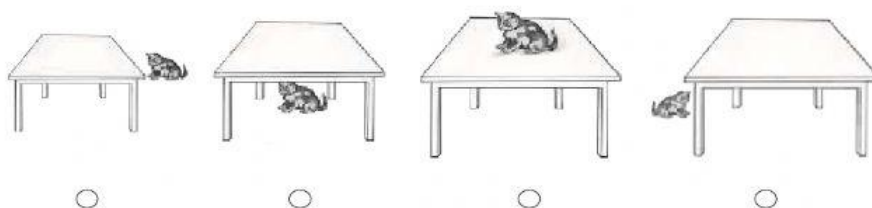
15. ¿Cuales son lineas Horizontales?



16. ¿Cuál es el lápiz más corto?




17. ¿Cuál de los gatos está debajo de la mesa?




18. ¿Cuál de los árboles es más grande?



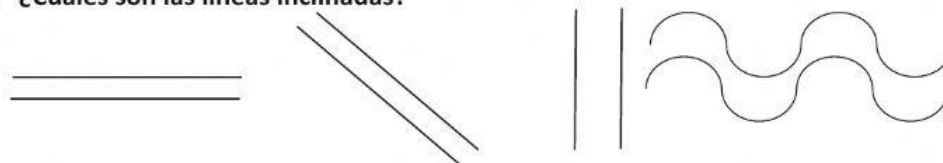
19. ¿Cuál es la botella pequeña?



20. Son líneas verticales :



21. ¿Cuáles son las líneas inclinadas?



Estos materiales son posibles gracias al apoyo técnico del Proyecto Mejorando el Impacto al Desempeño Estudiantil de Honduras (MIDEH) financiado por pueblo y gobierno de Estados Unidos de América a través de la Agencia de Estados Unidos para el Desarrollo Internacional (USAID).

Editado de forma virtual por Claudia María Zelaya Díaz Comité de Pedagógico
Municipio Nueva Arcadia, Copán