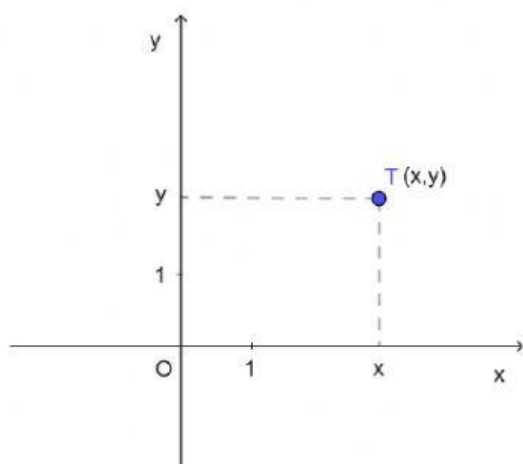


Koordinatni sustav u ravnini- radni list C



1)

Ako je uređeni par brojeva (x,y) pridružen

točki T u koordinatnoj ravnini, onda se broj

x naziva

točke T , a broj

y naziva se

točke T .

2)

Zadana je točka T (2,3) .

Broj 2 je

točke T i nalazi se na

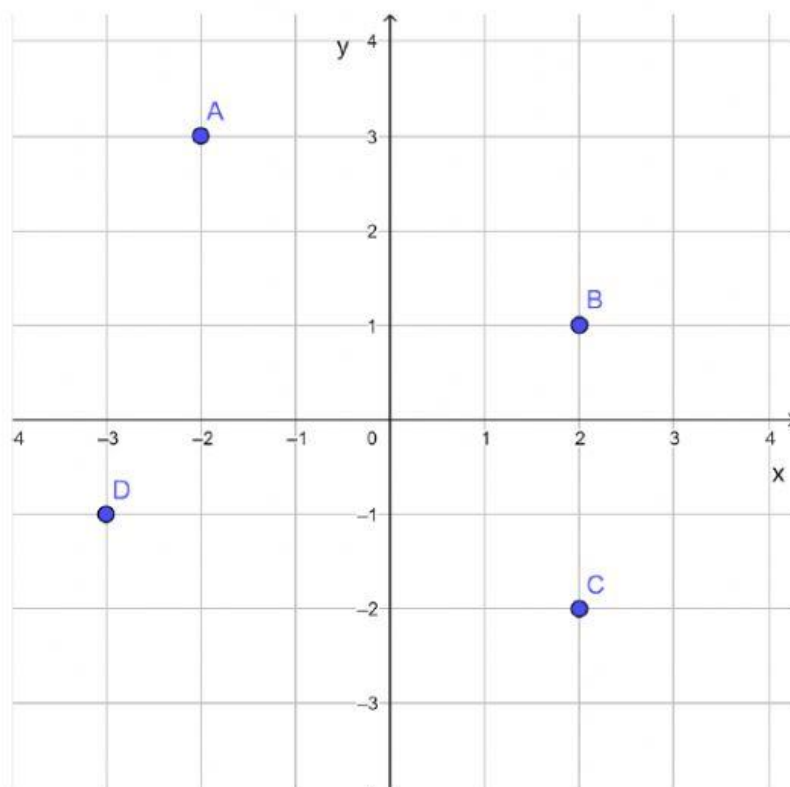
.

Broj 3 je

točke T i nalazi se na

.

3) Istaknutim točkama u koordinatnoj ravnini pridruži odgovarajuće koordinate.



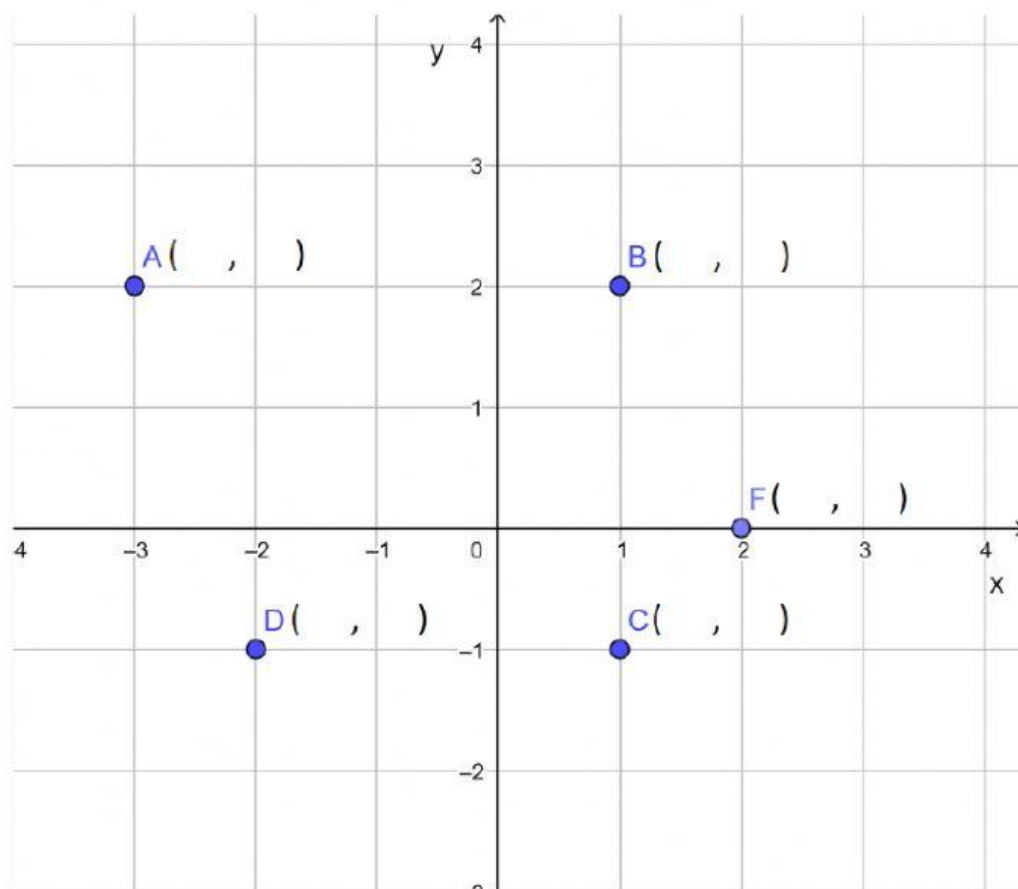
(-2,3)

(2,1)

(2,-2)

(-3,-1)

4) Očitaj koordinate istaknutih točaka u koordinatnoj ravnini.



Ovo djelo je licencirano pod licencom Creative Commons Imenovanje-Nekomercijalno-Dijeli pod istim uvjetima 4.0 međunarodna. Ako želite vidjeti primjer te licence, posjetite <http://creativecommons.org/licenses/by-nc-sa/4.0/>.

autor: Valentina Pajdaković