

# EVALUACION DE MATEMÁTICA

## SEGUNDO BIMESTRE


1.E.P.  
*Claret*  
Arequipa



ESTUDIANTE: .....



GRADO: PRIMERO SECCIÓN: AMARILLO









PROF: Eugenia Mendoza Flores Fecha: 24/07/2020

1. Arrastra y completa las regletas que corresponden para formar relaciones aditivas y coloca los números según corresponda.

				
	y		es	

				
	+			
+				

							
+							
							+

2. Resuelve los siguientes problemas usando las regletas y completando las operaciones.

Mi familia esta conformada por mis 2 padres mis 3 hermanos y yo. ¿Cuántos miembros conforman mi familia?

Resolvemos

$$\begin{array}{r} \square \\ \square \\ \square \\ \hline \square \end{array} +$$


Respuesta: El total de miembros de mi familia son

Mi mamá partió la pizza en 8 trozos comimos mis hermanos y yo. ¿Cuántos trozos de pizza quedarón?


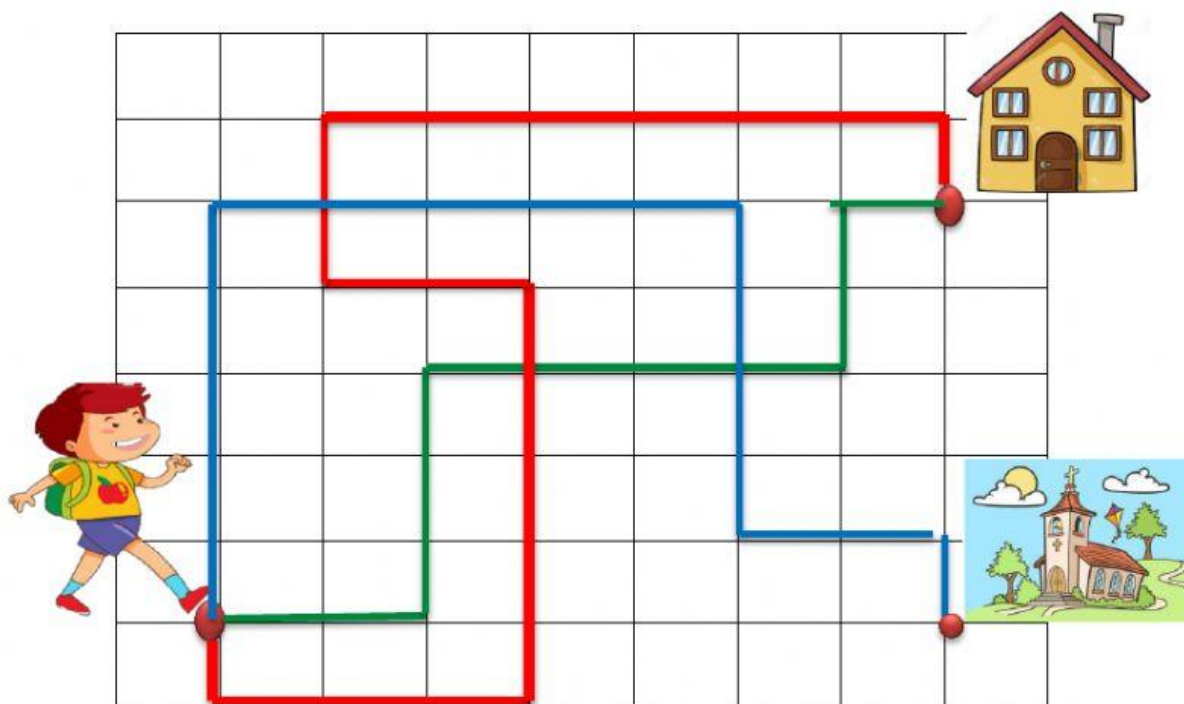
Resolvemos

$$\begin{array}{r} \square \\ \square \\ \square \\ \hline \square \end{array} -$$

Respuesta: Quedan                      trozos de pizza.



3. Completa el código de desplazamiento que realiza Mateo para llegar a casa.



4. Contesta las siguientes preguntas:

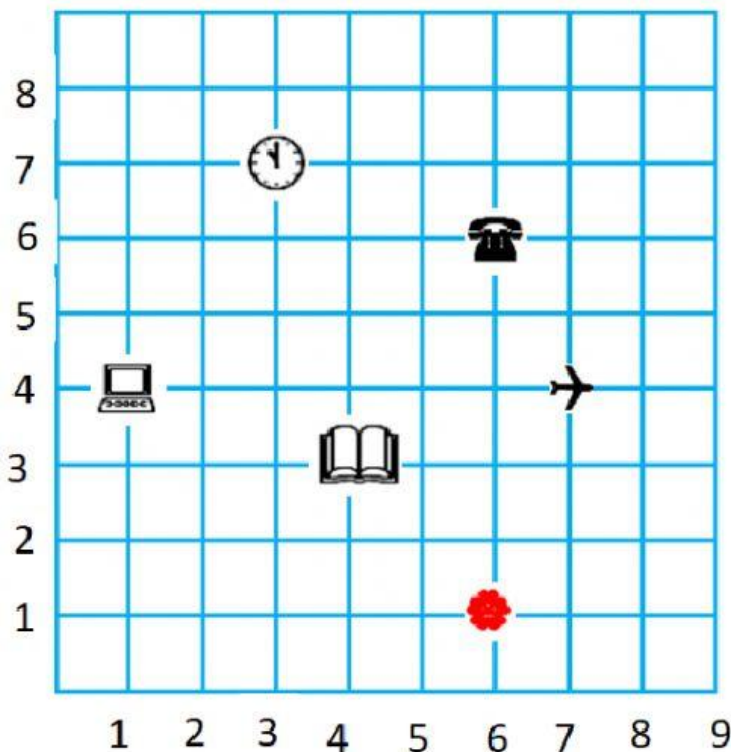
¿Cuál de los desplazamientos es el más corto?



¿El desplazamiento de color azul a dónde llega?



5. Ubica los objetos en el plano cartesiano escribiendo los pares ordenados.



	(   ;   )
	(   ;   )
	(   ;   )
	(   ;   )
	(   ;   )
	(   ;   )

6. Completa el cuadro de frecuencia y arrastra las barras de cada fruta según corresponda.

Fruta	Cuenta	frecuencia

1 2 3 4 5 6 7 8 9 10




a. ¿Qué fruta es la que más prefieren?

b. ¿Qué fruta les gusta en igual cantidad?

c. ¿Qué fruta es la que prefieren menos?