

Repaso de medidas de Longitud

1. **Observe** las siguientes figuras. **Coloque**, en las líneas en blanco, una "m" si la medida que se usa para medir es el metro o "cm" si la medida que se utiliza es el centímetro. **Recuerde** el tamaño del objeto.

a)



_____m_____

b)



c)



d)




e)



f)



g)





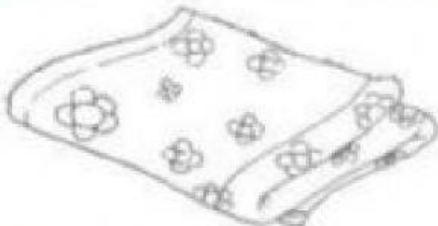










h)




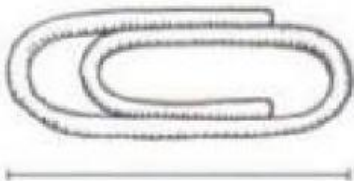
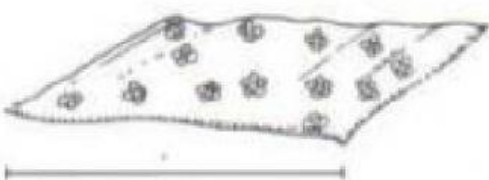


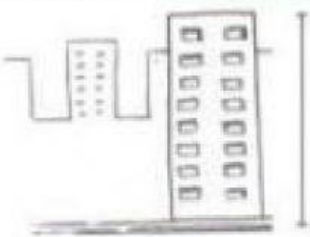
i)



Pinta el objeto que medirías con regla o huincha según se indica.

Con 	 
Con 	 
Con 	 
Con 	 
Con 	 

- Estima cuánto mediría cada objeto en la realidad. Rodea con una cuerda tu respuesta en cada caso.

	<p>3 centímetros</p> <p>3 metros</p>
	<p>2 metros</p> <p>2 centímetros</p>
	<p>4 metros</p> <p>4 centímetros</p>
	<p>5 metros</p> <p>5 centímetros</p>
	<p>15 centímetros</p> <p>15 metros</p>
	<p>10 metros</p> <p>10 centímetros</p>