

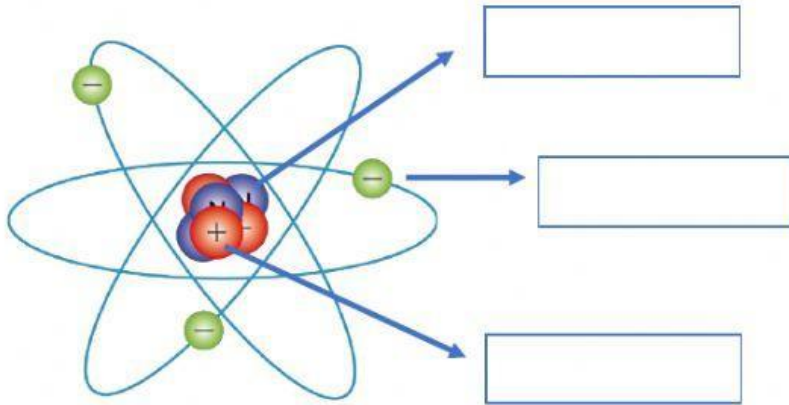
## Átomos y Moléculas.

1) Indica las partes de un átomo.

Electrón

Protón

Neutrón



2) Indique si las siguientes moléculas corresponden a elementos o compuestos.

Compuesto

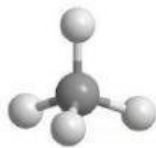
Elemento

Compuesto

Elemento

Compuesto

Elemento



$\text{CH}_4$



$\text{H}_2\text{O}$



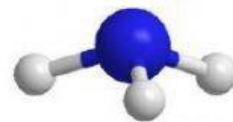
$\text{N}_2$



$\text{H}_2$



$\text{O}_2$



$\text{NH}_3$