



UNITATS DE MASSA


PROBLEMES II



Avui et plantejo resoldre uns nous problemes. Recorda les passes que has de seguir:


- Llegeix bé l'enunciat tantes vegades com et sigui necessari, imaginant les informacions que explica.
- Completa l'apartat de DADES.
- Passa les mesures que surten al problema a la mesura que surt a la pregunta final, si és necessari.
- Fes les operacions a la llibreta.
- Escribe la SOLUCIÓ.

1. Tres llapis pesen 450 dg. Quants mg pesa un llapis?


DADES	SOLUCIÓ
<ul style="list-style-type: none">• Quina mesura surt a la pregunta final?:• Pes de tres llapis:• Calcula el pes d'un llapis:	 <p>Fes els càlculs a la llibreta i completa:</p> <p>** El pes que has calculat per a un llapis no quadra amb la mesura final. Passa-la!</p> <ul style="list-style-type: none">• Un llapis pesa...



2. En Pau pesa 35 kg i 340 g. Na Maria pesa 24'480 g. Quina diferència de pes expressat en kg hi ha entre ells?

DADES							SOLUCIÓ
<ul style="list-style-type: none">En quina mesura hem d'expressar el resultat del problema?:Escriu el pes d'en Pau en kg emprant la coma:							 <p>Fes els càlculs a la llibreta i completa:</p>
kg	hg	dag	g	dg	cg	mg	
<ul style="list-style-type: none">Escriu el pes de na Maria en kg emprant la coma:							<ul style="list-style-type: none">La diferència de pes entre en Pau i na Maria és de...
kg	hg	dag	g	dg	cg	mg	

3. Una pizza gegant pesa 23'5 hg. Si som 35 persones, quants g de pizza ens corresponen a cada u?

DADES	SOLUCIÓ
<ul style="list-style-type: none">Quina mesura surt a la pregunta final?:Pes de la pizza:Nombre de persones:Passa el pes de la pizza a g:	 <p>Fes els càlculs a la llibreta i completa:</p> <ul style="list-style-type: none">A cada persona li corresponen...



4. Eligeix l'opció més lògica:

a. Una barra de pa pesa uns 200...



b. Un cotxe pesa uns 1.500...




c. 1 kg de pomes pesa uns 2'5...

d. Un fillet de cinquè uns 30...

e. Una xinxeta uns 5...

5. Calcula quants quarts de quilo hi ha en nou quilos i mig.

DADES	SOLUCIÓ
$1/4 + 1/4 + 1/4 + 1/4 = 1\text{kg}$	 <p>Fes els càlculs a la llibreta i completa:</p> <ul style="list-style-type: none">• a nou quilos i mig hi ha...



Aquí tens l'escala si et fa falta:

kg – hg – dag – g – dg – cg – mg