

PRACTICA DE POLÍGONOS

Practicamos

17/07/20

Miss
Elisa



1. Coloca una X en la casilla donde está la figura correcta.

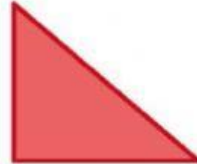
a. ¿Cuál de estos polígonos es un pentágono?



1. ☐



2. ☐



3. ☐




4. ☐

b. ¿Cuál de estos polígonos es un triángulo?



1. ☐



2. ☐



3. ☐

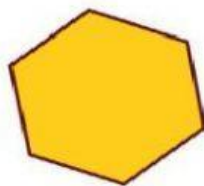


4. ☐

c. ¿Cuál de estos polígonos es un cuadrilátero?




1. ☐



2. ☐



3. ☐



4. ☐


d. ¿Cuál de estos polígonos es un hexágono?



1. ☐



2. ☐



3. ☐



4. ☐