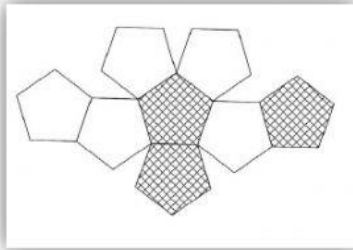
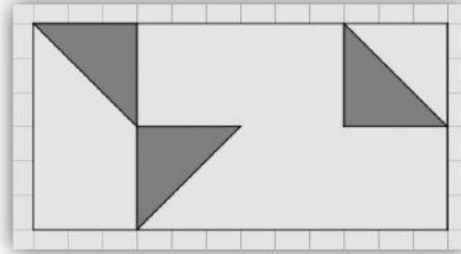


Ejercitación de repaso sobre Fracciones

- 1) Escribí la fracción que representan los casilleros pintados en cada caso.



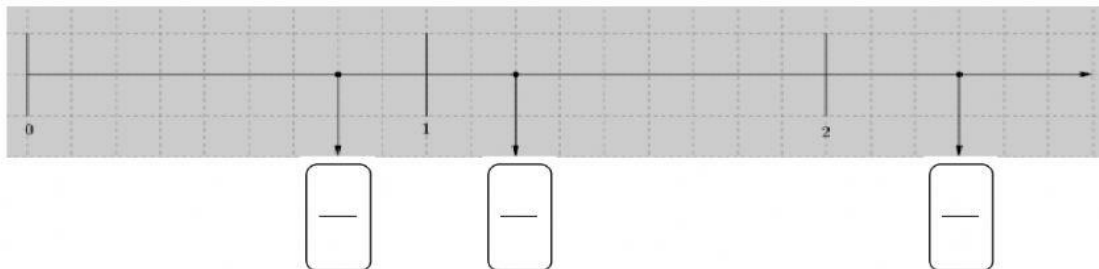


- 2) Este segmento de 4 cm representa $\frac{2}{5}$ de un entero.

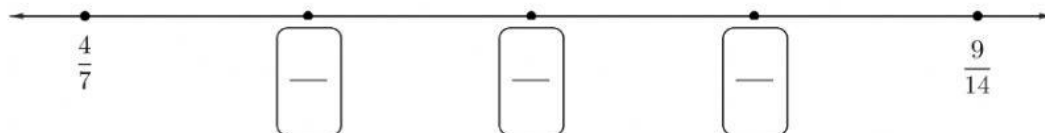


Un segmento que represente $\frac{3}{5}$ del mismo entero mide _____ cm.

- 3) Indicá a qué fracción corresponde cada punto de la recta.



- 4) Escribí tres fracciones de denominador 56 comprendidas entre las dos ya representadas. Ubicalas en los puntos correspondientes de la recta numérica:



No te olvides de oprimir el botón ¡Terminado! y colocar tu nombre y apellido cuando termines todas las actividades.

