

NAMA:


SD BOPKRI
GONDOLAYU

NO:



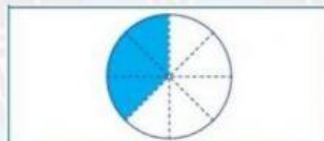

MENGENAL PECAHAN

Kerjakan dengan teliti !


1. Tentukan bentuk pecahan dari setiap potongan makanan berikut !



2. Tentukan bentuk pecahan dari bagian yang diwarnai sesuai gambar berikut !



3. Ibu membagi semangka menjadi 9 potong. Mita mengambil 2 potong semangka. Berapa bagian semangka yang diambil Mita ?



4. Terdapat dua buah paprika. Paprika pertama dipotong menjadi 2 bagian, dan paprika kedua dipotong menjadi 5 bagian. Tuliskan bentuk pecahannya !

