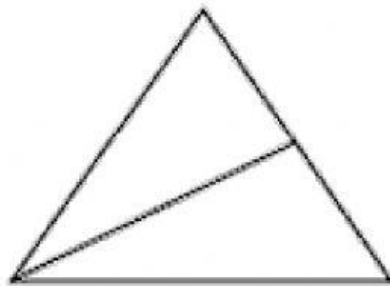




TEACHER	Lic. Kelly Quispe	GRADE	1 st GRADE			LESSON 06
SUBJECT	Mathematical Reasoning	CLASSROOM	A1			
LEVEL	PRIMARY	DATE	17	07	20	

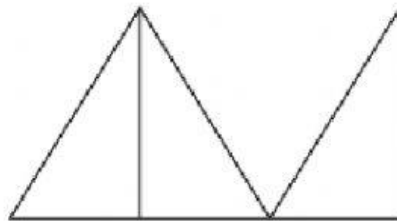
PRACTICA CALIFICADA: CONTEO DE TRIANGULOS

1. ¿Cuántos triángulos observas en la figura?




- a) 1 b) 2 c) 3 d) 4

2. ¿Cuántos triángulos observas en la figura?



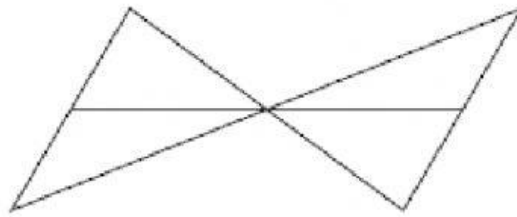
- a) 1 b) 2 c) 3 d) 4

3. ¿Cuántos triángulos observas en la figura?



- a) 1 b) 2 c) 3 d) 4

4. ¿Cuántos triángulos observas en la figura?



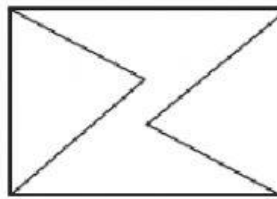
a) 4

b) 5

c) 6

d) 7

5. ¿Cuántos triángulos observas en la figura?



a) 4

b) 2

c) 6

d) 7

