


LA FAMILIA DEL 700



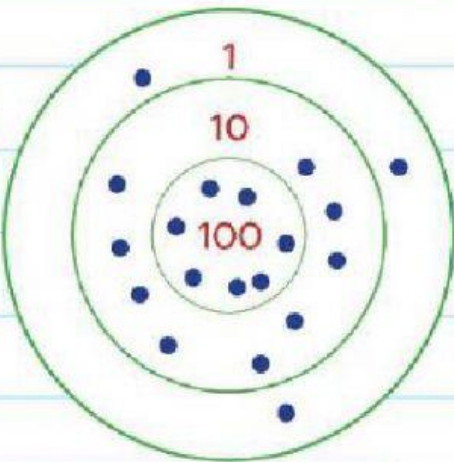
1) Completá sólo los números de los casilleros en color.

700		702			705		707		709
710		712			715		717		719
720		722			725		727		729
730		733			735		737		739
740		742			745		747		749
750		752			755		757		759
760		762			765		767		769
770		772			775		777		779
780		782			785		787		789
790		792			795		797		799


2) Calculá el puntaje que hizo cada uno teniendo en cuenta la cantidad de dardos que lograron clavar en cada sector del tablero.



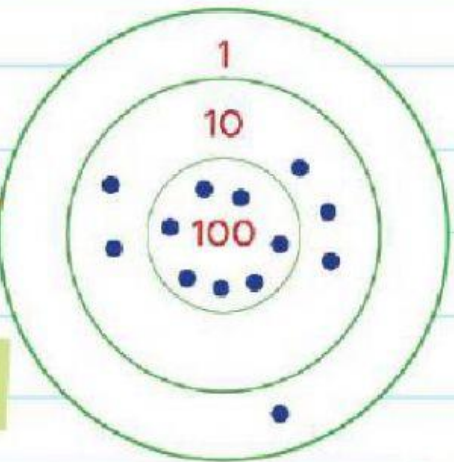
Tomás



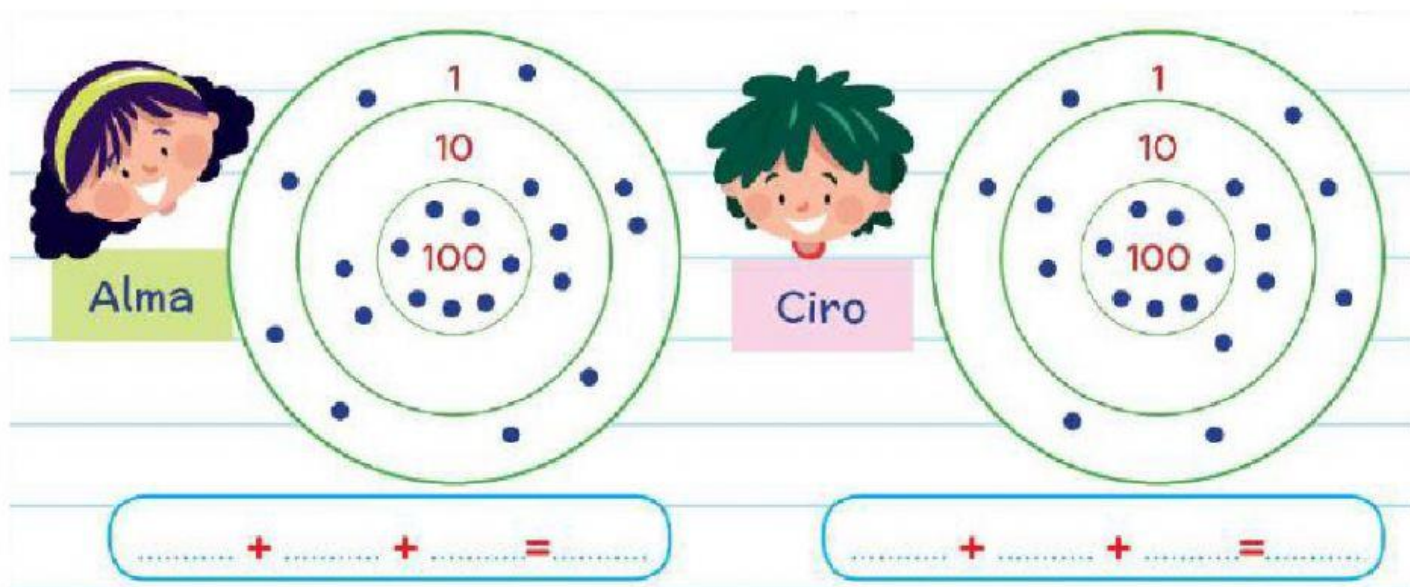
$700 + 90 + 3 = 793$



Sofía



$700 + 70 + 10 + 1 = 781$



3) Leé y escribí el nombre del jugador que logró cada puntaje.

Setecientos cincuenta y un puntos:

Setecientos sesenta y siete puntos:

Setecientos noventa y tres puntos:

Setecientos cincuenta y nueve puntos: