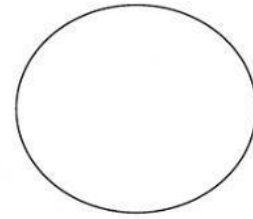




Escuela Básica Javier Carrera.
Miss: Abigail Morales – Daniela Sidgmann PIE
Matemática
Curso: 2ºB




EVALUACIÓN DIFERENCIADA DE MATEMÁTICA


Nombre:			
Curso:	Fecha	Puntaje total: 43 pts	Puntaje Obtenido:

Objetivo: - Leer y representar números del 0 al 20 de manera concreta pictórica y simbólica.
- Comparar y ordenar número del 0 al 20.


I- Une cada elementos con el número que corresponde (4 pts).



10



15








8



Escuela Básica Javiera Carrera.
Miss: Abigail Morales – Daniela Sidgmann PIE
Matemática
Curso: 2°B

II. Cuente la cantidad de objetos que hay en cada recuadro y luego escribe el número en cada línea (12 pts.).

	_____
	_____
	_____
	_____
	_____
<div data-bbox="375 1780 518 1892">14</div> <div data-bbox="542 1780 686 1892">12</div> <div data-bbox="710 1780 853 1892">7</div> <div data-bbox="877 1780 1021 1892">15</div> <div data-bbox="1061 1780 1204 1892">10</div>	