





Práctica la Secuencia de NÚMEROS DEL 11 AL 15

Completa la serie numérica con las fichas de abajo para que el astronauta pueda llegar a los distintos planetas.

	11		13	14	15	
---	----	--	----	----	----	---

		12		14	15	
--	--	----	--	----	----	--

	11		13		15	
---	----	--	----	--	----	---

	11	12		14		
---	----	----	--	----	--	---

11	12	13	14	15	12	13
----	----	----	----	----	----	----