

Egy háromszög oldalai 5 cm, 6cm, 7cm hosszúak.

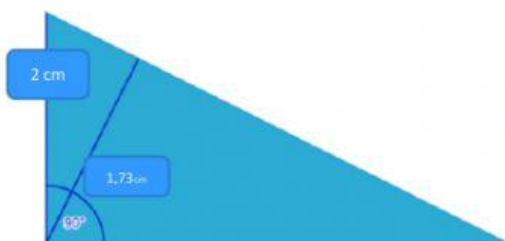


A mellékelt háromszög oldalai 18 cm, 24 cm és 30 cm.



A nagy


háromszög oldalai 18 cm, 24 cm és 30 cm. A leghosszabb oldalához tartozó súlyvonal leválasztja belőle a lila háromszöget.



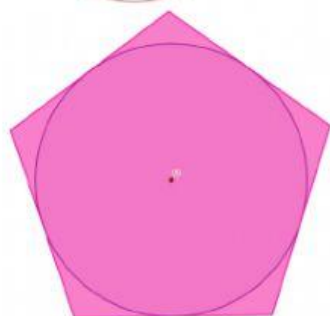
Írd az ábrába, milyen hosszú a hiányzó szakasz!



A szabályos ötszög oldala 7 cm.



A szabályos ötszög körülírt körének sugara 7 cm.



A szabályos ötszög beírt körének sugara 7 cm.

Derékszögű a háromszög?

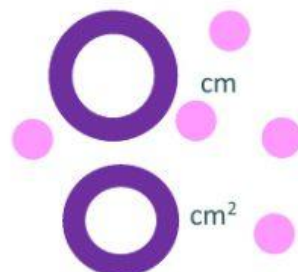
igen nem

Mekkora a háromszög területe?



Mekkora a lila háromszög területe?

Mekkora a lila háromszög kerülete?



Az ötszög kerülete:

Az ötszög területe:

Az ötszög kerülete:

Az ötszög területe:

Az ötszög kerülete:

Az ötszög területe:

