







Área:	<i>Ciencias Naturales</i>	Año de E.G.B:	<i>Cuarto</i>
Tema:	<i>El universo y el sistema solar</i>		

1. Seleccione de qué está conformado el universo:

 <i>Polvo cósmico</i>	 <i>Árboles</i>	 <i>Cuerpos celestes</i>
 <i>Corteza terrestre</i>	 <i>Sistema solar</i>	 <i>Galaxias</i>

2. Escoja la respuesta correcta y complete el siguiente texto:

Las  están formadas por gases, polvo y millones de 
 _____. Los sistemas planetarios están formados por  y otros
 astros que giran alrededor de una . Los 
 como la Luna, giran alrededor de un . Los 
 dejan ver a su paso una cola luminosa.

3. Arrastre los nombres de los planetas del sistema solar:

<i>Venus</i>	<i>Tierra</i>	<i>Marte</i>	<i>Mercurio</i>	<i>Saturno</i>	<i>Urano</i>	<i>Júpiter</i>	<i>Neptuno</i>
--------------	---------------	--------------	-----------------	----------------	--------------	----------------	----------------

