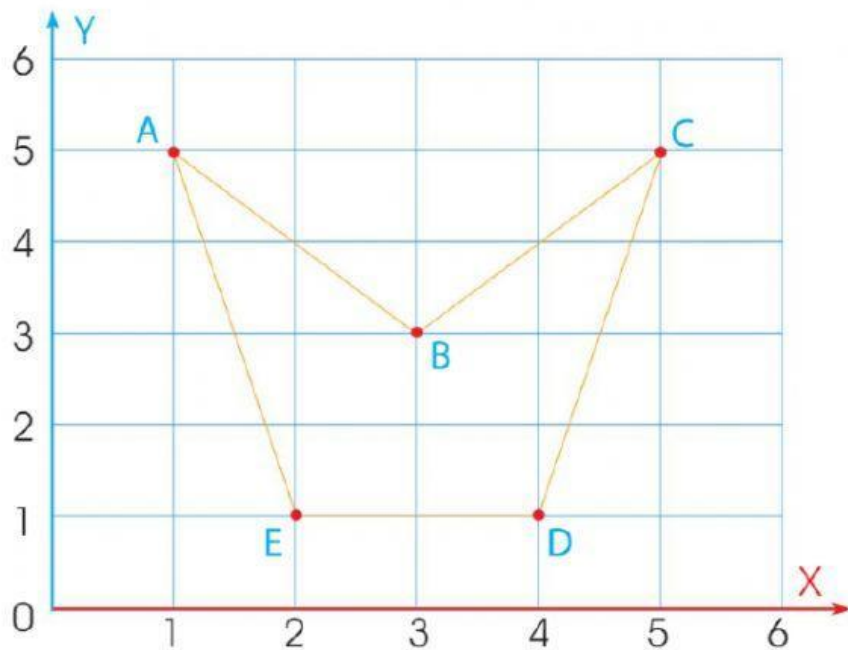


## Ubicación en el plano cartesiano

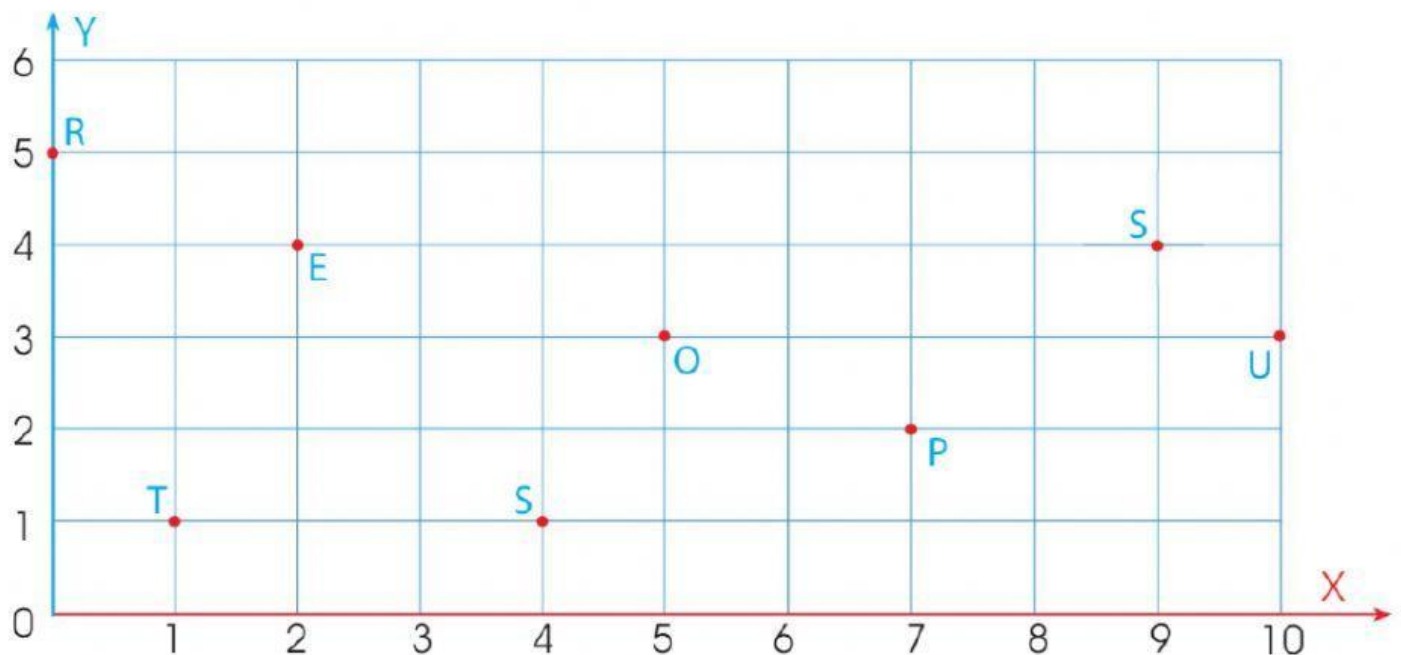
Observa el plano cartesiano y **completa** los pares ordenados.



	Par ordenado
A	( ; )
B	( ; )
C	( ; )
D	( ; )
E	( ; )



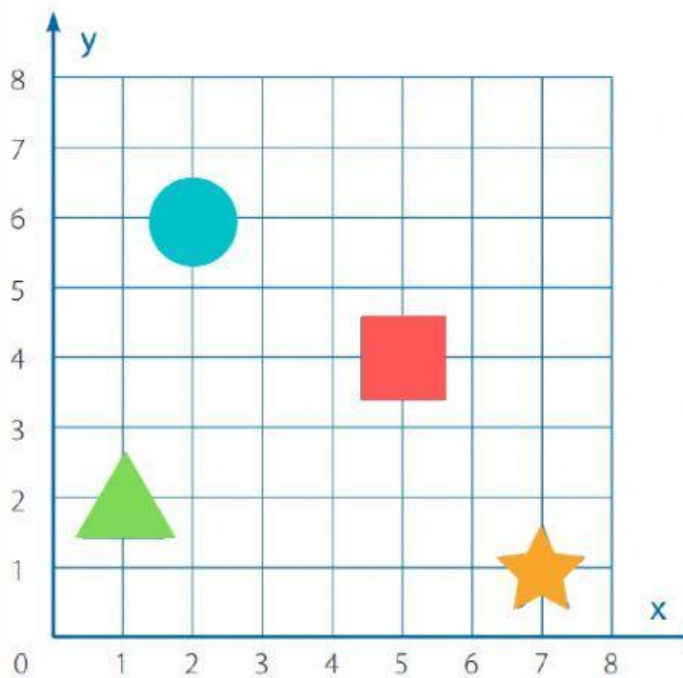
**Observa** las letras en el plano cartesiano y **descubre** el mensaje oculto, según indican los pares ordenados.



(2;4)	(0;5)	(2;4)	(4;1)

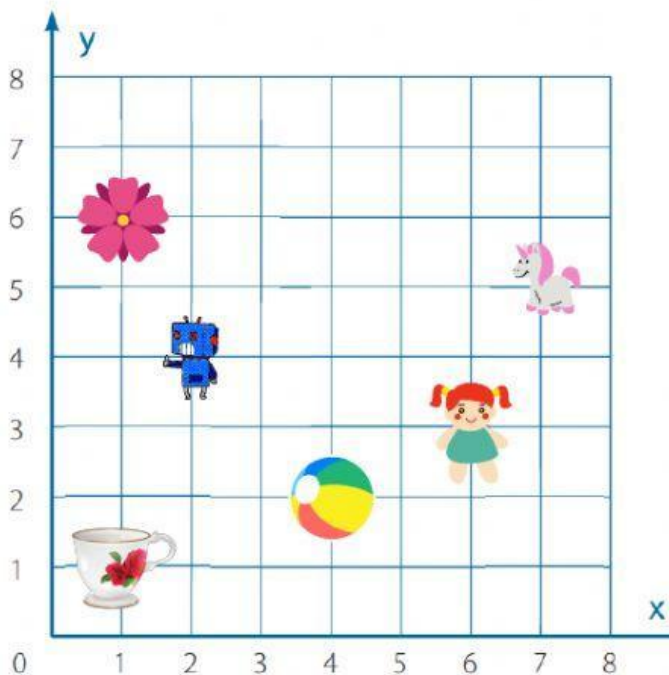
(0;5)	(2;4)	(9;4)	(7;2)	(2;4)	(1;1)	(10;3)	(5;3)	(4;1)	(5;3)
-------	-------	-------	-------	-------	-------	--------	-------	-------	-------

**Marca** la alternativa que contenga el par ordenado que le corresponde.



- A. ¿En qué punto se encuentra ubicado el cuadrado?
- a. (5; 4)   b. (4; 5)   c. (4; 7)   d. (7; 8)
- B. ¿En qué punto se encuentra ubicado el círculo?
- a. (2; 5)   b. (3; 6)   c. (6; 2)   d. (2; 6)
- C. ¿En qué punto se encuentra ubicado el triángulo?
- a. (1; 3)   b. (1; 2)   c. (2; 1)   d. (2; 2)
- D. ¿En qué punto se encuentra ubicada la estrella?
- a. (1; 7)   b. (7; 3)   c. (6; 1)   d. (7; 1)

**Selecciona** las afirmaciones correctas.



- La  está ubicada en el punto (1; 6)
- El  está ubicada en el punto (5; 7)
- La  está ubicada en el punto (6; 3)
- El  está ubicada en el punto (2; 4)
- La  está ubicada en el punto (2; 2)
- La  está ubicada en el punto (4; 2)