

# LA CIRCUNFERENCIA Y SUS PARTES

DESPUÉS DE HABER VISTO EL VÍDEO, RELACIONA CADA PALABRA CON SU DEFINICIÓN



Haz clic para ver el vídeo

RADIO

Segmento que une el centro de la circunferencia con un punto cualquiera de la misma

DIÁMETRO

Mitad de la circunferencia

ARCO

Segmento de recta que pasa por el centro y une dos puntos opuestos de una circunferencia

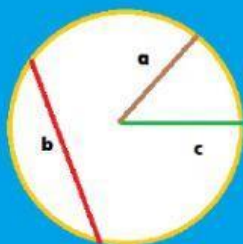
CUERDA

Recta que une dos puntos de la circunferencia

SEMICIRCUNFERENCIA

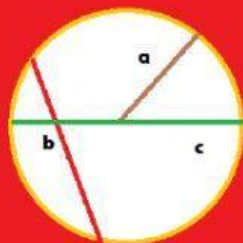
Cada una de las partes en que una cuerda divide a la circunferencia.

¿Cuál de los segmentos es un radio? Elige todas las opciones posibles



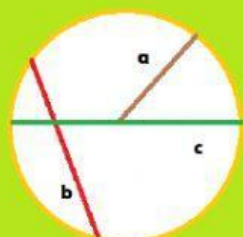
- ☐ a
- ☐ b
- ☐ c

¿Cuál de los siguientes segmentos es un diámetro?



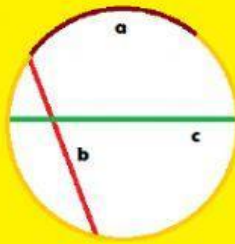
- ☐ a
- ☐ b
- ☐ c

¿Cuál de los siguientes segmentos es una cuerda?



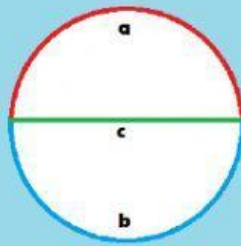
- ☐ a
- ☐ b
- ☐ c

¿Cuál de los siguientes elementos es un arco?



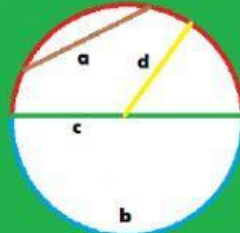
- ☐ a
- ☐ b
- ☐ c

¿Qué elemento es una semicircunferencia? Elige todas las opciones adecuadas.



- ☐ a
- ☐ b
- ☐ c

Relaciona cada elemento con su nombre



Radio

Diámetro

Cuerda

Semicircunferencia

Haz clic arriba para ver el video