

# Actividades en Clase

1) Completo las definiciones, seleccionando las palabras de la parte inferior.

- Rectas .....: Son aquellas cuyo punto de intersección forma ángulos .....
- Rectas .....: Son aquellas cuyo corte forma ángulos diferentes .....  
a estas se las conoce como rectas .....
- Rectas .....: Son aquellas que mantienen una misma dirección y la misma .....

equidistancia

rectos

oblicuas


a 90 grados

perpendiculares


paralelas

secantes


2) Arrastre los ángulos de la página y los pego en el lugar indicado.




Recto



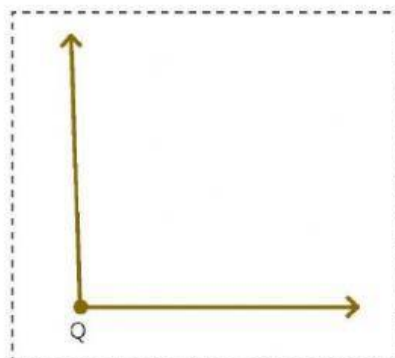
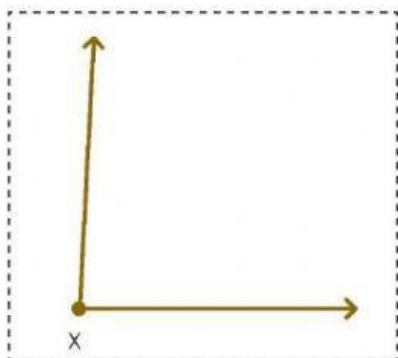
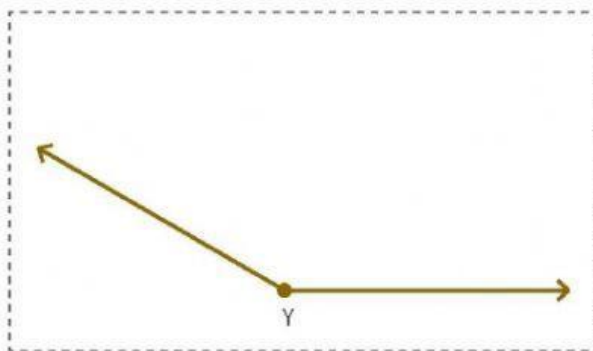
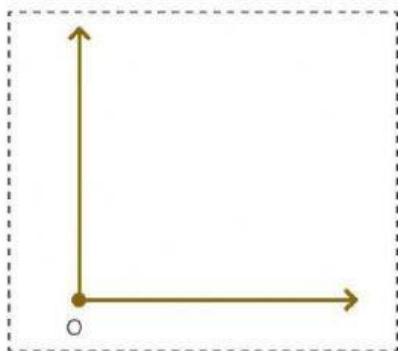
Obtuso



Agudo



Obtuso



**3) Sin medir, determino a qué clase pertenece cada ángulo.**



- El ángulo que se forma entre las rectas de color negro y verde es \_\_\_\_\_
- El ángulo que se forma entre las rectas de color negro y morado es \_\_\_\_\_
- El ángulo que se forma entre las rectas de color negro y azul es \_\_\_\_\_
- El ángulo que se forma entre las rectas de color verde y azul es \_\_\_\_\_