

2

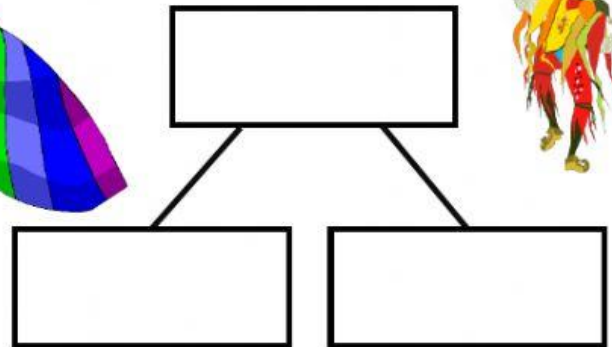
**ORGANIZA LA INFORMACIÓN, ELIGE LA OPERACIÓN Y RESPONDE A LA PREGUNTA**

El circo del Sol montó una carpa en Meloneras, en el sur de Gran Canaria. Carolina fue a ver el espectáculo con su madre y sus primas.



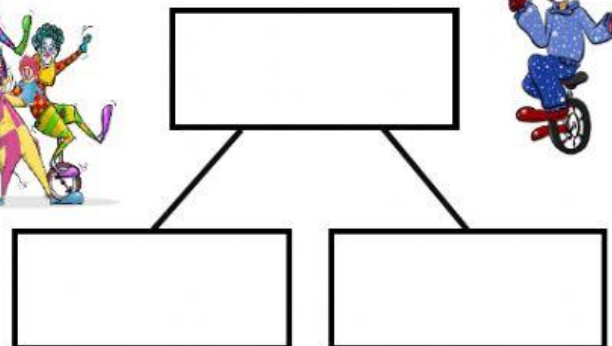
Sofía gastó 45 € en la entrada y otros 36 € en un vestido largo de tirantes muy colorido.

¿Cuántos gastó Sofía en total?


**OPERACIÓN**

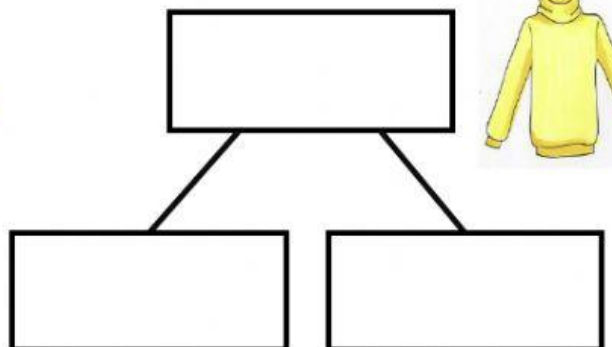

El espectáculo duró 140 minutos, pero Sandra se fue a los 113 m.

¿Cuántos minutos del espectáculo se perdió Sandra?


**OPERACIÓN**


Al salir Inés se fijó en una sudadera que cuesta 45 € pero solo tiene 28 €, el resto se lo tienen que prestar.

¿Cuánto dinero le falta?


**OPERACIÓN**