

REPASO TEMA 12

MATEMÁTICAS 2º

M. CARMEN FUENTES MARTÍN

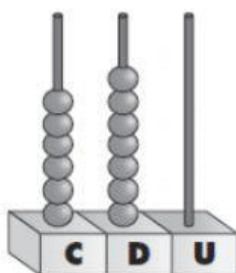
1 Escribe cómo se lee, en cada caso, el número anterior.

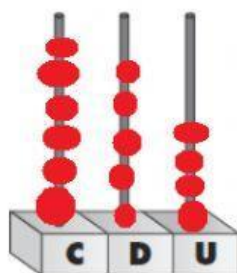
15.º →

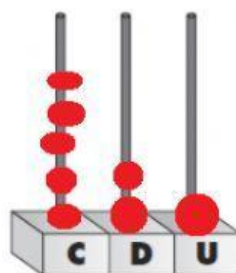
20.º →

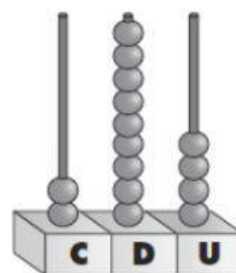
18.º →

2 Completa.









3. Calcula .

$$\begin{array}{r} 485 \\ + 253 \\ \hline \end{array}$$

$$\begin{array}{r} 712 \\ - 375 \\ \hline \end{array}$$

$$\begin{array}{r} 49 \\ \times 6 \\ \hline \end{array}$$

$$\begin{array}{r} 53 \\ \times 8 \\ \hline \end{array}$$

4. MARCA las monedas y billetes que necesitas para comprar estos objetos.

