





















ACTIVIDAD DE REFUERZO: VALOR NUMÉRICO

RETO: "APRENDO COMO JUGANDO"

1. Averigua el valor de cada ícono y completa las filas y columnas que faltan.

				→	12	 = <input type="text"/>
				→	<input type="text"/>	 = <input type="text"/>
				→	<input type="text"/>	 = <input type="text"/>
				→	<input type="text"/>	 = <input type="text"/>
↓	↓	↓	↓			
13	11	<input type="text"/>	6			

2. A continuación los cinco íconos tienen escondido un valor de 1, 2, 3, 4 o 5; y no se repiten entre sí. Averigua cuánto vale cada uno.

	+		=	5	 = <input type="text"/>
	+		=	7	 = <input type="text"/>
	+		=	7	 = <input type="text"/>
	+		=	3	 = <input type="text"/>
					 = <input type="text"/>

Ahora. halla:

$$\left(\begin{matrix} \text{Pinterest} \\ \text{Instagram} \end{matrix} \right) + \begin{matrix} \text{WhatsApp} \\ \text{LinkedIn} \end{matrix} + \left(\begin{matrix} \text{YouTube} \\ \text{LinkedIn} \end{matrix} \right) = \boxed{}$$