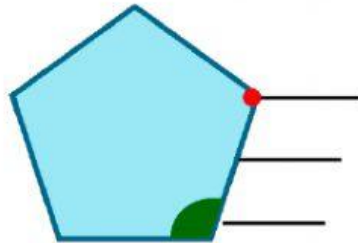


FIGURAS PLANAS - TEST

1. Selecciona los polígonos.



2. Escribe el nombre de sus elementos.



3. Completa la tabla.

polígono				
nombre				
nº de lados				
nº de vértices				
nº de ángulos				

4. Clasifica los triángulos según su lado.

escaleno


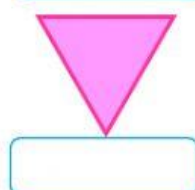

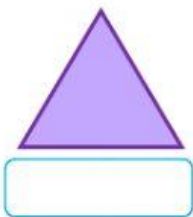
isósceles

equilátero

escaleno

isósceles

equilátero



5. Fíjate en la medida de los lados de estos triángulos y di de que tipo son.


- Los lados miden 3 cm, 4 cm y 5 cm. equilátero isósceles escaleno
- Los lados miden 7 cm, 4 cm y 7 cm. equilátero isósceles escaleno
- Los lados miden 4 cm, 4 cm y 4 cm. equilátero isósceles escaleno

6. Clasifica:



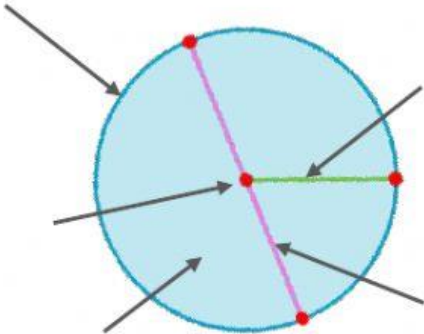
Circunferencias			
Círculos			

7. Cuenta. ¿Cuántos círculos hay? _____ ¿Y circunferencias? _____



8. Escribe sus elementos. Mide el **radio** y completa.

USA LA REGLA



¿Cuánto mide el radio? _____ cm.

¿Y el diámetro? Cálculalo. _____ = _____ cm.

DEJA AQUÍ LA
REGLA

