

# PROBLEMAS MATEMÁTICOS.

## SUMA, RESTA, MULTIPLICACIÓN Y DIVISIÓN.

(Realiza las operaciones en el cuaderno y completa la ficha con la solución. Recuerda poner el punto de los miles y no separar)

1. Leyre, Elena, Cristina y sus padres van a ir este verano a Cabarceno a ver a los elefantes. La entrada de los adultos es de 18 euros y la de los niños de 9 euros. ¿Cuánto costaron las 4 entradas?

### Datos

Marca las **operaciones** que has


hecho

Adultos:

Niños:

Precio entrada adultos:

Precio entrada niños:



**Solución:** Las 4 entradas costaron

euros


2. La biblioteca del colegio tiene 978 libros. Ayer fueron Alberto Ramos, Bruno, Alberto, Virginia, Marta, y Hugo. Se los repartieron para llevarlos a sus casas. ¿Cuántos libros se llevó cada uno a su casa?

### Datos

Marca las **operaciones** que has hecho

Niños:

Libros:



**Solución:** Cada uno se llevó a su casa

libros


3. En el desayuno saludable del colegio se han comido 359 bollitos de pan. Si para hacer cada bollito se necesitan 27 g de harina. ¿Cuántos gramos de harina se han utilizado para hacer todos los bollitos?

**Datos**

Bollitos

g.harina/bollito

Marca las **operaciones** que has hecho



**Solución:** se han necesitado                      gramos de harina.

4. De la excursión de fin de curso llegamos a Boada a las 19 horas y 30 minutos. Si salimos del parque de atracciones a las 16 horas y 15 minutos ¿Cuánto duró el viaje?

**Datos**

Salida:

Llegada:

**Solución:** El viaje duró                      horas y                      minutos.

5.- En el patio del cole nos gusta mucho jugar a la comba.

La comba roja que mide 50 cm. y la comba azul mide lo mismo.

Si las unimos ¿cuántos centímetros miden las dos?

¿Cuántos metros?

Por su acentuación ¿qué tipo de palabra es centímetro?