


El siguiente gráfico muestra el número de clientes que una tienda tuvo durante 10 días. Use el gráfico para responder las preguntas.

Respuestas

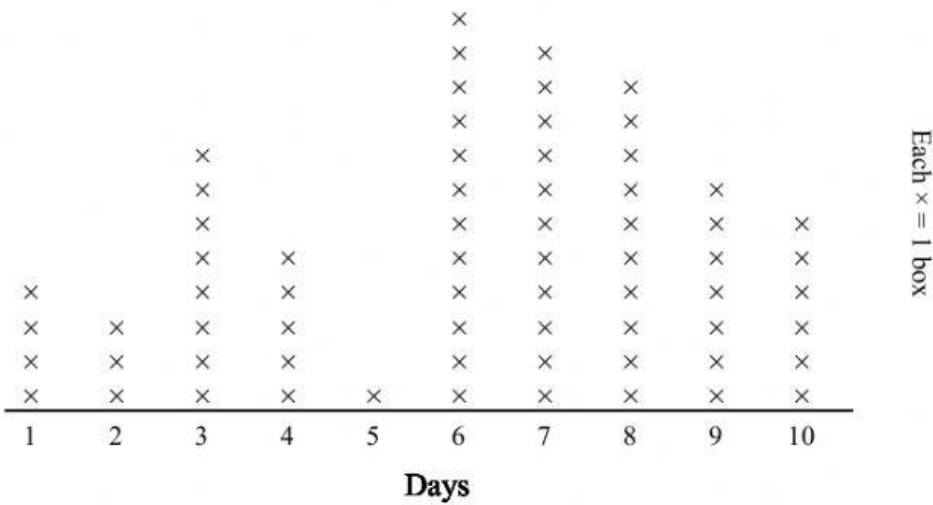


- 1) Cuántos clientes tuvo en el día 8?
- 2) Tuvieron más clientes en el día 4 o 5?
- 3) Tuvieron menos clientes en el día 9 o el día 10?
- 4) Cuántos días tuvieron más de 9 clientes?
- 5) Cuántos días tuvieron menos de 5 clientes?
- 6)Cuál es la cantidad combinada de clientes que tuvieron en el día 3 y el día 7?
- 7) Cuál día tuvieron más clientes?
- 8) Cuál día tuvieron menos clientes?
- 9) Qué días tuvieron más de 7 clientes?
- 10) Cuál es la diferencia entre el número de clientes en el día 4 y el día 7?
- 11) Qué días tuvieron exáctamente 6 clientes?



1. _____
2. _____
3. _____
4. _____
5. _____
6. _____
7. _____
8. _____
9. _____
10. _____
11. _____

El Teacher Daniel vendió cajas de chocolates para poder comprar la colección de varitas de la película de Harry Potter. Él graficó el número de cajas que vendió en cada día. Use el gráfico para responder las preguntas.



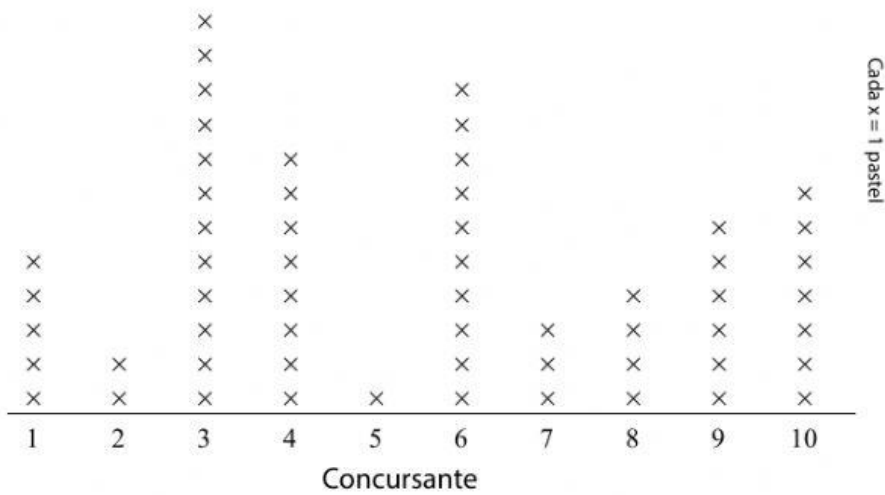
Respuestas

- _____
- _____
- _____
- _____
- _____
- _____
- _____
- _____
- _____
- _____
- _____

- Cuántas cajas vendió el día 8
- Vendió más cajas el día 7 o el día 2?
- Vendió menos cajas el día 9 o el día 6?
- Cuántos días vendió más de 3 cajas?
- Cuántos días vendió menos de 7 cajas?
- Cuál es la cantidad combinada de cajas que vendió el día 3 y el día 10?
- En qué día vendió la mayor cantidad de cajas?
- Vendió la menor cantidad de chocolate en qué día?
- Qué días (si los hubo) vendió más de 8 cajas
- Cuál es la diferencia en la cantidad de cajas que vendió el día 7 y la cantidad que vendió el día 5?
- Qué día vendió exactamente 8 cajas?



En la feria local, estaban celebrando un concurso de comer pasteles. Registraron el número de pasteles que cada comió en el siguiente gráfico.



Respuestas

- 1. _____
- 2. _____
- 3. _____
- 4. _____
- 5. _____
- 6. _____
- 7. _____
- 8. _____
- 9. _____

- 1) Cuántos pasteles comió el concursante 3?
- 2) Quién comió más pasteles, el concursante 8 o el concursante 6?
- 3) Quién comió menos pasteles, el concursante 4 o el concursante 9?
- 4) Cuántos concursantes comieron más de 3 pasteles?
- 5) Cuántos concursantes comieron menos de 5 pasteles?
- 6)Cuál es la cantidad combinada de pasteles que comió el concursante 7 y el concursante 2?
- 7) Cuál concursante comió más pasteles?
- 8) Cuál concursante comió menos pasteles?
- 9) Cuáles concursantes comieron más de 7 pasteles?

