
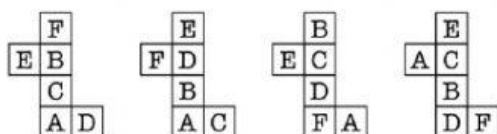
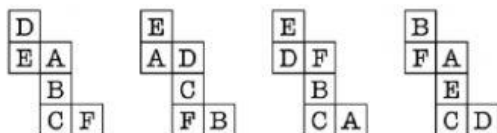

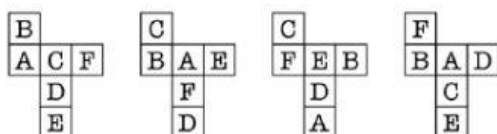


Encuentra el desarrollo con el que se puede hacer el cubo



Esta tabla tiene todos los resultados de unas sumas, ¡pero ninguno de los sumandos!  
¿Puedes encontrar los sumandos que van en los cuadros en blanco? Pista: son todos números del 1 al 10.



+										
	3	10	6	11	4	5	7	12	8	9
	4	11	7	12	5	6	8	13	9	10
	11	18	14	19	12	13	15	20	16	17
	7	14	10	15	8	9	11	16	12	13
	10	17	13	18	11	12	14	19	15	16
	6	13	9	14	7	8	10	15	11	12
	9	16	12	17	10	11	13	18	14	15
	2	9	5	10	3	4	6	11	7	8
	5	12	8	13	6	7	9	14	10	11
	8	15	11	16	9	10	12	17	13	14