

GÜNLÜK ÇALIŞMA

HAYAT BİLGİSİ:

A. Aşağıda verilen bilgilerden doğru olanlar için yanındaki kutucuğa "D" yanlış olanlar için yanındaki kutucuğa "Y" yazın.

- Hayvanlara zarar verenleri uarmalıyız.
- Hayvanlar bizim dostumuz değildir.
- Bitkilerin yaşamaları için insanlara ihtiyacı vardır.
- Çiçeklerin suya ihtiyacı vardır.
- Parklarda bulunan çiçekleri koparmalıyız.
- Hayvanlar ve bitkileri korumalıyız.

TÜRKÇE

A. Aşağıda verilen kelimeleri alfabetik sıraya göre yanına sıra numarasını yazın.

Çiçek	
Deniz	
Otomobil	
At	

Koyun	
Lama	
Serçe	
Aslan	

Vadi	
Orman	
Tepe	
Dağ	

B. Aşağıdaki kelimelerin zıt anlamlarını karşısına yazın.

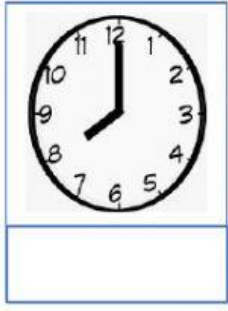




Kötü	
Çirkin	
Kısa	
Aç	

Yokuş	
Sabah	
Doğu	
Gece	

Az	
İhtiyar	
Islak	
Dik	

MATEMATİK

A. Aşağıda gösterilen saatlerin okunuşunu altına yazın.



B. Aşağıdaki tabloya göre soruları cevaplayın.

Tablo: Evde beslenen hayvanlar	
Balık	9
Kedi	6
Köpek	8
Kuş	11
Tavuk	7

- 1.) En fazla beslenen hayvan:
- 2.) En az beslenen hayvan:
- 3.) Kedi ile kuş besleyenlerin toplamı:
- 4.) tavuk ile balık besleyenlerin toplamı:
- 5.) En çok ve en az beslenen hayvanların toplamı:

C. 1 onluk 7 birlik ile 6'yı toplarsak sonuç kaç olur?

$$\boxed{} \boxed{} \boxed{} = \boxed{}$$

D. Asya, 7 kalemını arkadaşına verince 9 kalemı kaldığını gördü. Asya'nın başlangıçta kaç kalemı vardı?

$$\boxed{} \boxed{} \boxed{} = \boxed{}$$

E. Aşağıda yazılı olan sayıların arasındaki sayıları yazın.

9 11

27 29

48 50

60 62

69 71

80 82