










Aprendo y me divierto 18






www.solvemoji.com - HARD
SOLUTIONS, PUZZLES & LEADERBOARDS ONLINE

 +
  +
  = 31

 +
  +
  = 29

 +
  +
  = 46

 +
  x
  =

Puzzle ID: 22157 Solvemoji.com

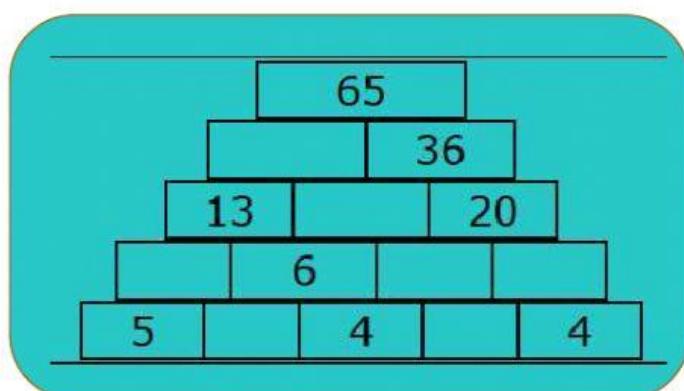
 =

 =

 =

PIRAMIDES

Cada número es la suma de los dos que tiene debajo, fíjate bien y rellena los huecos de la pirámide



CUADRADO MÁGICO

El cuadrado mágico más pequeño es el que tiene 9 casillas, de orden 3 o de tamaño 3x3, Para iniciar, coloca los números que correspondan de manera que cada fila, cada columna y cada diagonal principal sume 15

