













Aprendo y me divierto 13



www.solvemoji.com - EASY
SOLUTIONS, PUZZLES & LEADERBOARDS ONLINE

 +  +  = 30
 +  +  = 20
 +  +  = 17
 +  x  =

Puzzle ID: 14022 Solvemoji.com

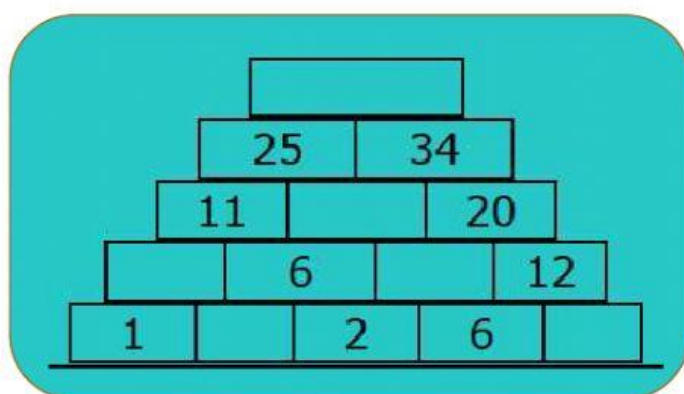
 =

 =

 =

PIRAMIDES

Cada número es la suma de los dos que tiene debajo, fíjate bien y rellena los huecos de la pirámide



CUADRADO MÁGICO

El cuadrado mágico más pequeño es el que tiene 9 casillas, de orden 3 o de tamaño 3x3, Para iniciar, coloca los números que correspondan de manera que cada fila, cada columna y cada diagonal principal sume 15

