



Colegio San Ignacio

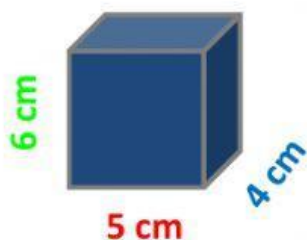
Sexto Grado \_\_\_\_\_

Nombre y Apellido: \_\_\_\_\_

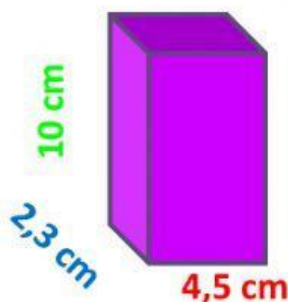


## VOLUMEN

1.- Halla el volumen de cada cuerpo, observa que hay un color para la base, otro color para la altura y otro para el ancho de la figura. Coloca las medidas en el color correspondiente. Sigue el modelo que se muestra a continuación:



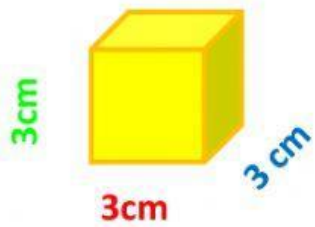
$$\boxed{5} \times \boxed{4} \times \boxed{6} = \boxed{120} \text{ cm}^3$$



$$\boxed{\phantom{00}} \times \boxed{\phantom{00}} \times \boxed{\phantom{00}} = \boxed{\phantom{00}} \text{ cm}^3$$



$$\boxed{\phantom{00}} \times \boxed{\phantom{00}} \times \boxed{\phantom{00}} = \boxed{\phantom{00}} \text{ cm}^3$$



$$\square \times \square \times \square = \square \text{ cm}^3$$



$$\square \times \square \times \square = \square \text{ cm}^3$$



$$\square \times \square \times \square = \square \text{ cm}^3$$