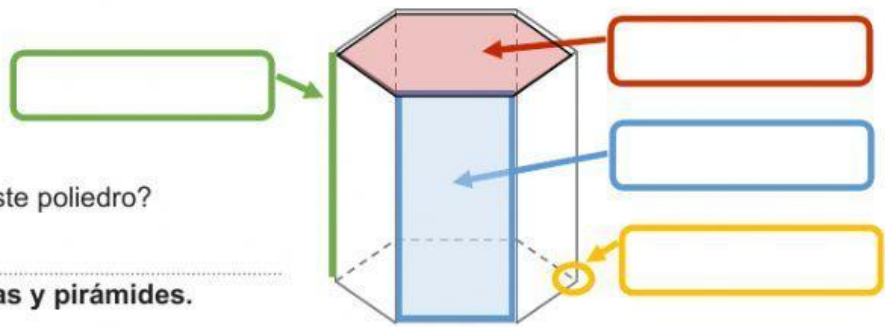


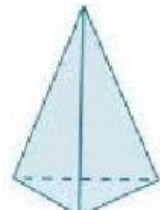
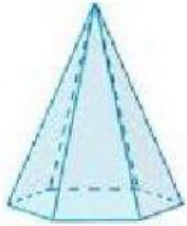
## CONTROL MATEMÁTICAS 5º TEMA 12 "Cuerpos geométricos"

1. Selecciona la opción correcta según las partes señaladas en este poliedro


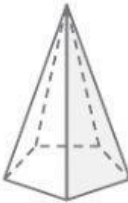

b) ¿Qué nombre recibe este poliedro?



2. Nombra los siguientes prismas y pirámides.



3. Completa esta tabla.

			
nombre del cuerpo geométrico			
n.º de caras			
n.º de vértices			
n.º de aristas			

4. ¿Con cuáles de estos elementos, si los giras, podrías generar un cono?

Moneda

Cartabón

Libro

Escuadra

Folio

5. En la clase de plástica de hoy los alumnos han estudiado algunos monumentos y construcciones con formas poliédricas.

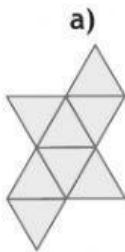


Observa y responde.

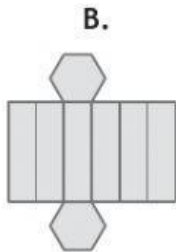
- ¿Qué poliedro es? .....
- ¿Cuántas caras tiene? .....
- ¿Cómo son, según sus lados, los triángulos de sus caras?

.....

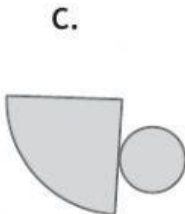
6. ¿Cuáles de estos desarrollos no corresponden a ningún cuerpo geométrico? Márcalos.  
Escribe el nombre de los cuerpos geométricos del resto de desarrollos.



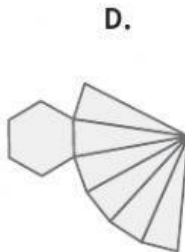
.....



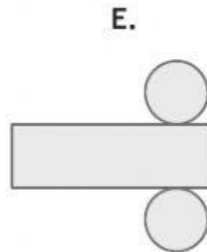
.....



.....



.....



.....