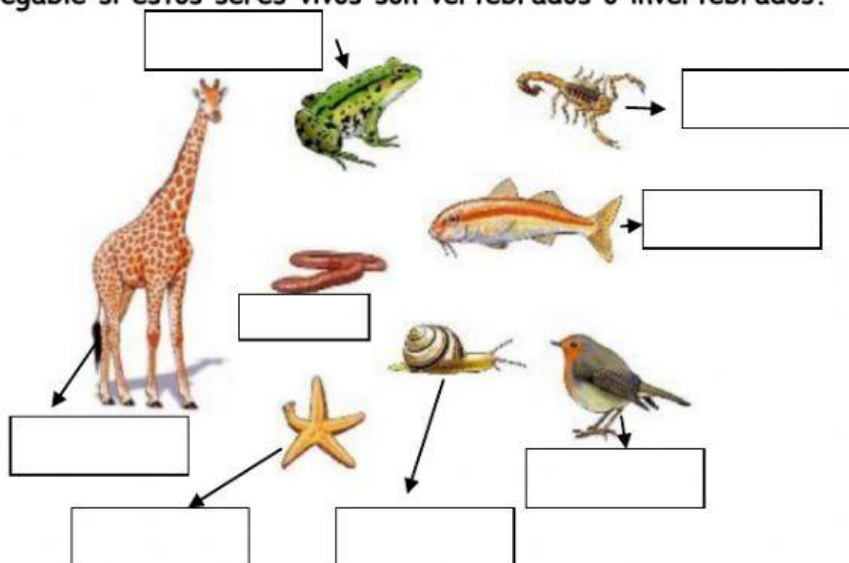


## REPASO CIENCIAS

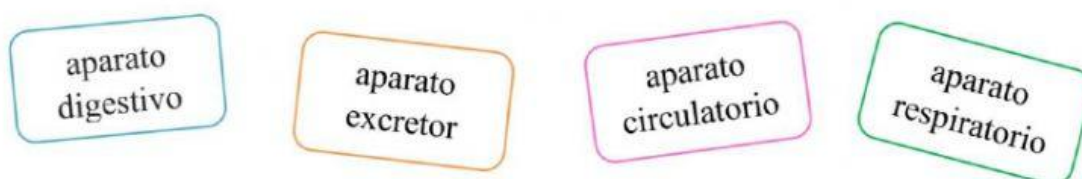
- 1 Elige en el desplegable si estos seres vivos son vertebrados o invertebrados.



- 2 Indica el nombre de cada uno de estos animales clasificándolos en vertebrados e invertebrados. ¿Cuál de ellos es un artrópodo? Elige en el desplegable.

Murciélago	Caracol	Lagartija
Avispa	Lombriz	Delfín

- 3 Coloca los aparatos que intervienen en la función de nutrición en su lugar correspondiente.



# Repaso Natural Science 3ºEP










4 ¿Qué nutrientes aporta cada uno de los alimentos señalados en la pirámide?

## Nutrientes

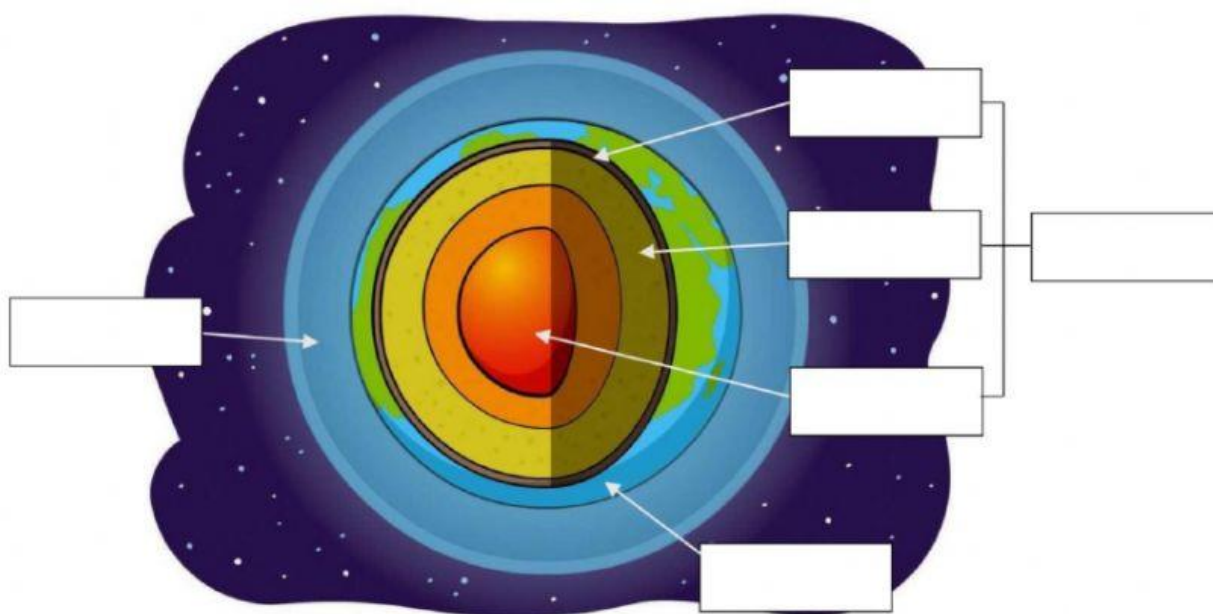
- Proteínas
- Grasas
- Hidratos de carbono
- Vitaminas y minerales



1. Tarta: .....
2. Pollo: .....
3. Huevos: .....
4. Leche: .....
5. Fruta: .....
6. Verdura: .....
7. Pasta: .....
8. Legumbres: .....
9. Pan: .....
10. Aceite: .....

5 Completa la foto de la Tierra poniendo el nombre de cada parte. Arrastra la respuesta correcta.

Atmósfera	Manto	Geosfera
Corteza	Hidrosfera	Núcleo



6 Une cada fase del ciclo del agua con el estado que le corresponde.

- |               |   |                    |
|---------------|---|--------------------|
| PRECIPITACIÓN | • | • Gaseoso          |
| EVAPORACIÓN   | • | • Líquido          |
| TRANSPORTE    | • | • Líquido o sólido |

7 Observa el dibujo del ciclo del agua y sitúa correctamente cada una de sus fases. Arrastra la respuesta correcta.

Condensación	Transporte	Precipitación	Filtración	Evaporación
--------------	------------	---------------	------------	-------------

