


## REPASO SOCIALES 2º

1. Coloca el nombre de cada aparato de medida del tiempo atmosférico.

veleta

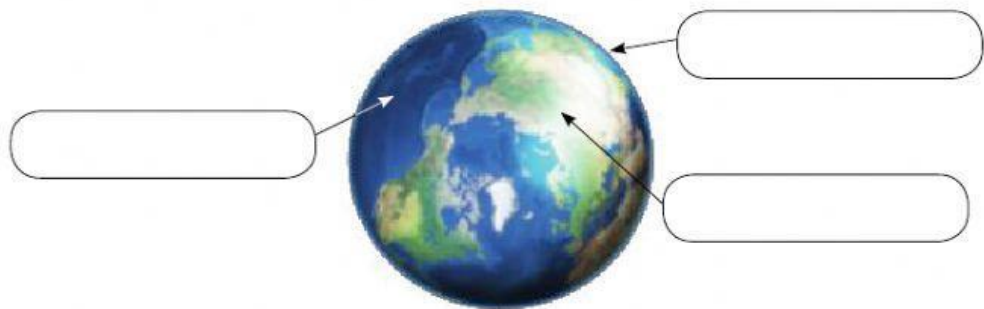
termómetro

pluviómetro



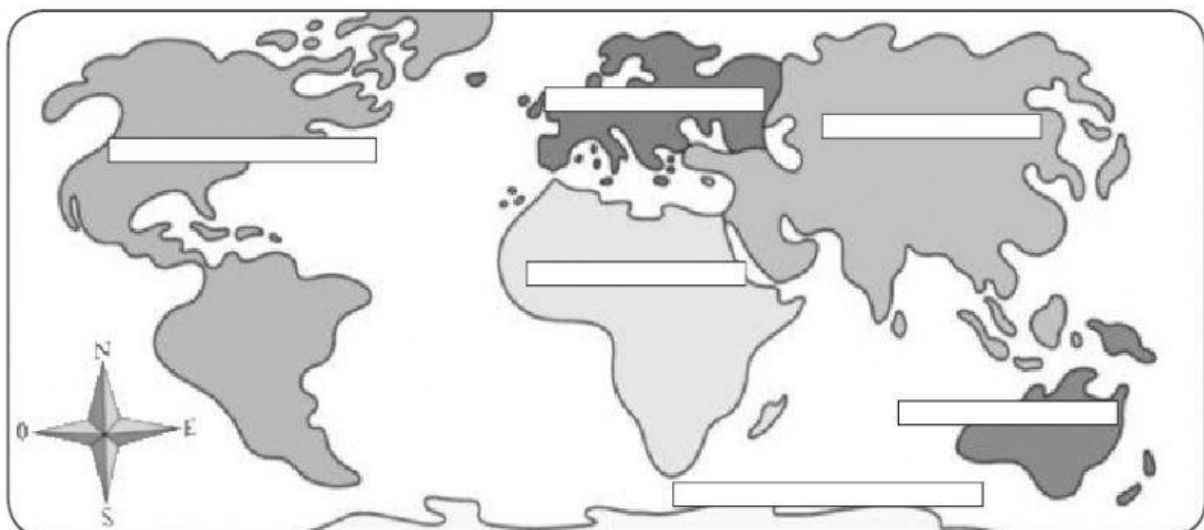
2. Escribe los nombres de las capas de la Tierra donde corresponda.

atmósfera  
geosfera  
hidrosfera




3. Escribe el nombre de cada continente donde corresponda.

Europa – América – África – Antártida – Oceanía – Asia



4. Arrastra cada nombre donde corresponda.



5. Piensa y escribe ordenando de mayor a menor.

municipio  
comunidad autónoma  
provincia  
país

1.
2.
3.
4.

6. Escribe V (verdadero) o F (falso).

- ☐ El territorio de España se organiza en 17 comunidades autónomas.
- ☐ Además de las comunidades autónomas, en España hay dos ciudades autónomas: Ceuta y Melilla.
- ☐ La capital de España es la ciudad de Madrid.