

CUERPOS GEOMÉTRICOS



cubo



prisma



cilindro



pirámide



cono



esfera

Une estos cuerpos geométricos con su nombre:



cono



esfera



cilindro



cubo





pirámide

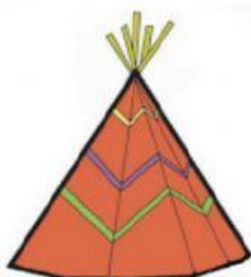


prisma

Escribe qué figura geométrica representa cada uno de los objetos de abajo:



cubo



1. Señala los objetos con forma de cubo

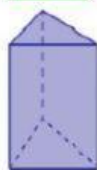
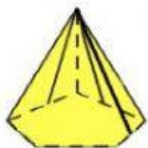
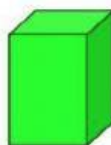
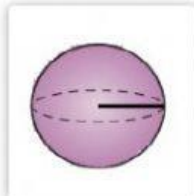


2. Señala los objetos con forma de esfera



3. Clasifica los siguientes cuerpos geométricos. Arrastra cada figura a su lugar correspondiente.

POLIEDROS		CUERPOS REDONDOS		
PRISMA	PIRÁMIDE	CILINDRO	CONO	ESFERA



4. Cuenta y completa



cubos	<input type="text"/>
esferas	<input type="text"/>