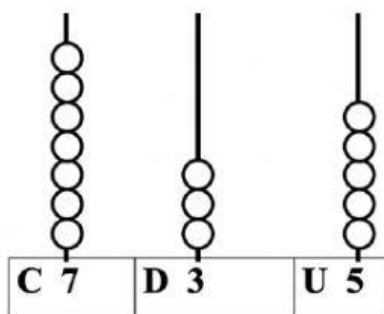


**PRUEBA DE EVALUACIÓN FINAL DE MATEMATICAS  
2º CURSO DE EDUCACIÓN PRIMARIA**

**7.- VALOR DE POSICIÓN: UNIDAD, DECENA Y CENTENA.**

- Observa el ábaco y el número que representa.



- Escribe el número formado por:

5 centenas, 3 decenas y 0 unidades \_\_\_\_\_

8 centenas, 3 decenas y 8 unidades \_\_\_\_\_

2 centena, 4 decenas y 0 unidades \_\_\_\_\_

9 centenas y 8 decenas \_\_\_\_\_

**8.- SUMAS CON LLEVADAS.**

$314$	$579$	$428$	$394$
$+ 297$	$+ 153$	$+ 283$	$+ 13$
_____	_____	_____	$245$

**9.- RESTAS CON LLEVADAS.**

$373$	$36$	$81$	$630$
$- 336$	$- 28$	$- 43$	$- 387$
_____	_____	_____	_____

**10.- MULTIPLICACIÓN COMO SUMA DE SUMANDOS IGUALES.**

□ Escribe estas sumas en forma de multiplicación y resuélvelas:

$$2 + 2 + 2 + 2 + 2 \longrightarrow 5 \times 2 = \underline{\quad}$$

$$3 + 3 \longrightarrow \underline{\quad} \times \underline{\quad} = \underline{\quad}$$

$$2 + 2 + 2 + 2 + 2 + 2 + 2 + 2 + 2 \longrightarrow \underline{\quad} \times \underline{\quad} = \underline{\quad}$$

$$4 + 4 + 4 + 4 \longrightarrow \underline{\quad} \times \underline{\quad} = \underline{\quad}$$

$$5 + 5 + 5 + 5 + 5 \longrightarrow \underline{\quad} \times \underline{\quad} = \underline{\quad}$$

**11.- DOBLE Y MITAD.**

□ Dibuja lo que se te pide:

● ● ● el doble  $\longrightarrow$

◆ ◆ ◆ ◆ ◆ ◆ ◆ ◆ la mitad  $\longrightarrow$

**12.- RESUELVE EL SIGUIENTE PROBLEMA**

Laura tiene **83** cromos y regala **17** a Juan. ¿Cuántos cromos le quedan a Laura?

<u>Datos</u>	<u>Operación</u>
_____	_____ = _____
_____	
<u>Solución</u>	
Le quedan _____.	

### 13.- CÁLCULO MENTAL

- Resuelve las siguientes sumas y restas mentalmente, sin hacer operaciones sobre ningún papel.

$6 + 4 = \underline{\quad}$

$7 - 3 = \underline{\quad}$

$8 + 5 = \underline{\quad}$

$15 - 8 = \underline{\quad}$

$23 + 7 = \underline{\quad}$

$25 - 6 = \underline{\quad}$

### 14.- DE LONGITUD, CAPACIDAD Y MASA.

- Une mediante flechas los objetos y la unidad que empleamos para medirlos.

El largo de una mesa -

- litro

Lo que pesa un paquete grande -

- metro

Un bidón de agua -

- centímetro

El ancho de un libro -

- kilogramo

- Indica qué unidad (**metro o centímetro**) empleamos para medir:

El largo de un pasillo : \_\_\_\_\_

Lo que mide un libro de texto: \_\_\_\_\_



La altura de una torre: \_\_\_\_\_

La largura de un lápiz: \_\_\_\_\_

### 15.- FORMAS GEOMÉTRICAS.

- Mueve el nombre de la forma de cada dibujo al lugar correcto:

**triángulo - círculo - cuadrado - rectángulo**



\_\_\_\_\_

\_\_\_\_\_

\_\_\_\_\_

\_\_\_\_\_