

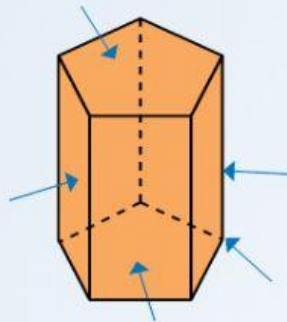
Nombre:

9-06-2020

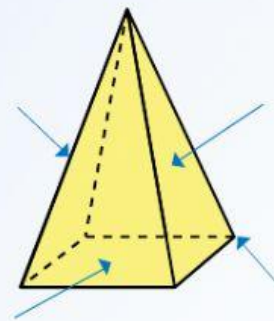
# Cuerpos geométricos 2



1 Identifica los elementos de estos poliedros.



Es un .


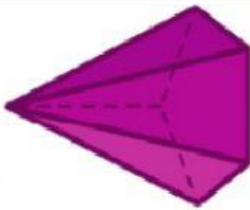
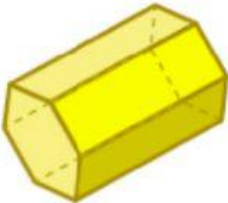



Es una .

2 Completa el texto.

Los                    son cuerpos geométricos cuyas caras son                    . Son  
si tienen dos                    iguales y                    , y sus caras laterales son                    .  
Son                    si tienen una base y sus                    laterales son                    .  
Los cuerpos redondos o de                    son los que se obtienen al                    una  
figura plana alrededor de su                    .

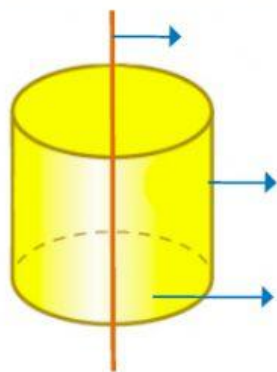
3 Completa la tabla.

CUERPO	NOMBRE COMPLETO	Nº de BASES	Nº de CARAS LATERALES	Nº de VÉRTICES	Nº de ARISTAS
					
					
					
					

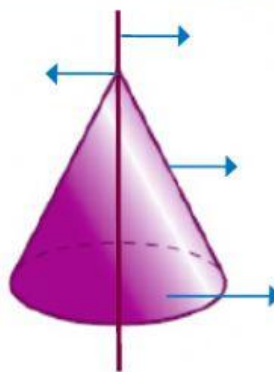
4 ¿Qué cuerpo de revolución se obtiene?



5 Identifica los elementos de estos cuerpos redondos.



Es un .



Es un .