

CONTROL TEMA 11 MATE

1. Completa las frases.

- Una hora son _____ minutos.
- Un día son _____ horas.
- Media hora son _____ minutos.
- Un cuarto de hora son _____ minutos.
- En una hora la aguja _____ da una vuelta completa.

2. Escribe la hora que marca cada reloj. (en letra)



3. Escribe la hora de cada reloj de dos formas. (en letra: primero como se ve y luego añadiendo de la tarde o de la noche)





4. Escribe la hora indicada.



Las ocho y diez de la mañana.



Las diez y cuarto de la noche.



Las once y media de la mañana.



Las cinco y veinte de la tarde.

5. Completa cada reloj y escribe debajo de cada uno qué hora es. (en números)

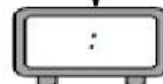


3 horas y 5 minutos después





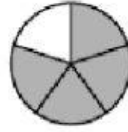
4 horas y 20 minutos antes



6. Escribe la fracción correspondiente en cada figura.




► _____




► _____

7. Cuenta las décimas o centésimas y escribe la fracción correspondiente.



► _____ décimas

Fracción: _____



► _____ centésimas

Fracción: _____

8. Escribe un número decimal que cumpla cada descripción.

- Su parte entera es 5 y su parte decimal 37. ► _____
- Su parte entera es 15 y su parte decimal es 95. ► _____

9. Realiza las siguientes sumas

$$\begin{array}{r} 8,47 \\ + 6,95 \\ \hline \end{array}$$

$$\begin{array}{r} 21,79 \\ + 3,60 \\ \hline \end{array}$$

10. Realiza las siguientes restas.

$$\begin{array}{r} 2,78 \\ - 0,29 \\ \hline \end{array}$$

$$\begin{array}{r} 4,30 \\ - 1,76 \\ \hline \end{array}$$